

BACCALAURÉAT GÉNÉRAL

SESSION 2007

HISTOIRE - GÉOGRAPHIE

Séries : L – ES

DUREE DE L'EPREUVE : 4 heures

SÉRIE L : coef. 4
SÉRIE ES : coef. 5

Les calculatrices ne sont pas autorisées.

Ce sujet comporte 10 pages numérotées de 1/10 à 10/10.

*Le candidat doit traiter UN des trois sujets d'histoire
de la première partie et UN des deux sujets de géographie
de la deuxième partie*

(La feuille annexe sur laquelle le candidat réalise le croquis de géographie
est àagrafer avec la copie.)

Première partie

HISTOIRE

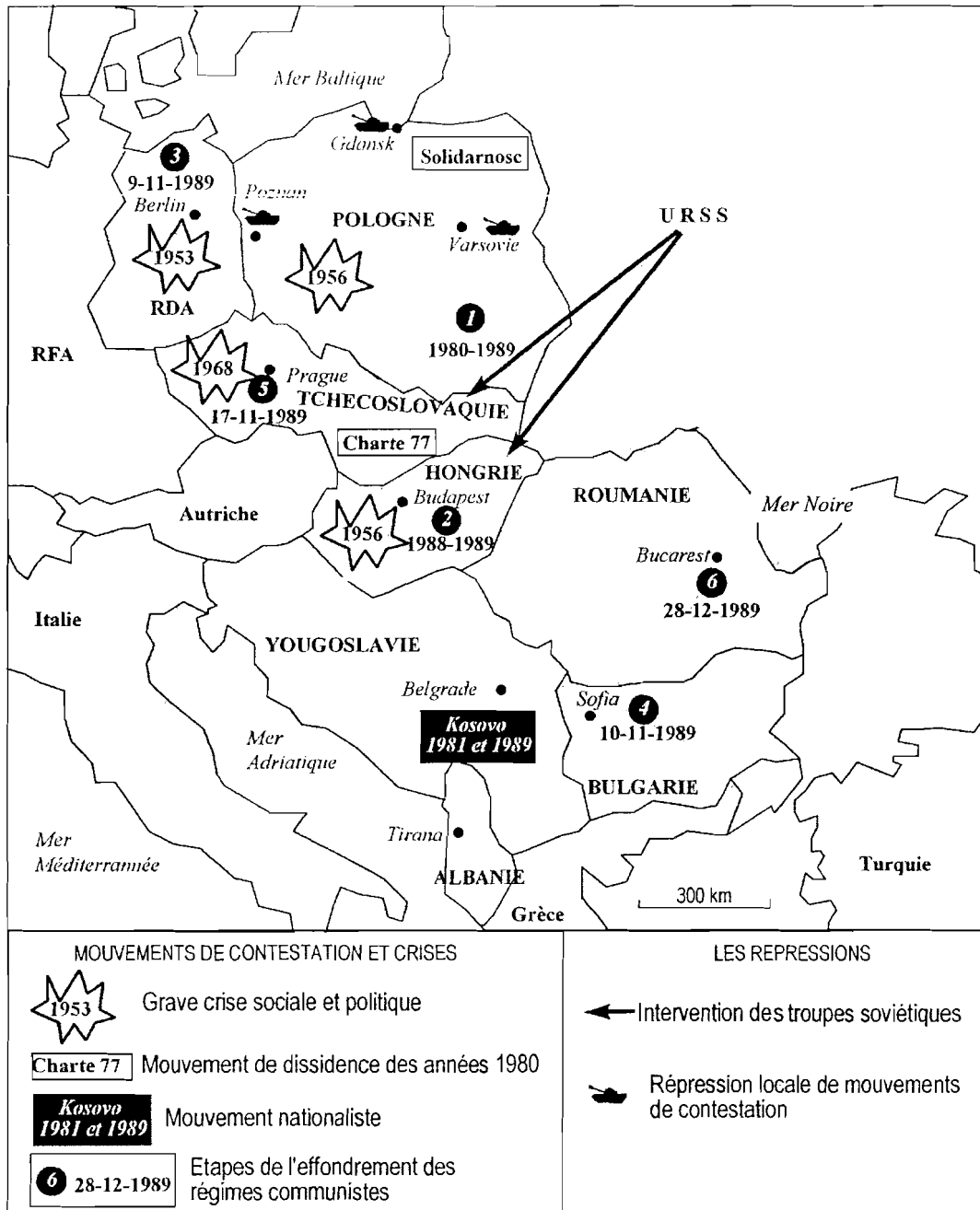
Le candidat choisit UN des trois sujets proposés.

SUJET I.

COMPOSITION

Les contestations du modèle soviétique dans les démocraties populaires de 1953 à 1989.

Les candidats peuvent s'aider de la carte ci-dessous.



SUJET II.
COMPOSITION

Les différentes mémoires de la période de la Seconde Guerre mondiale dans
la société française de 1945 à nos jours.

Repères chronologiques :

1945 : procès de Pétain

1953 : lois d'amnistie (touchant les collaborateurs)

1964 : transfert des cendres de Jean Moulin au Panthéon

1971 : film de Max Ophüls « *Le chagrin et la pitié* »

1973 : « *La France de Vichy* » de l'historien américain, Robert Paxton paraît en France

1985 : film de Claude Lanzmann « *Shoah* »

1987 : procès de Klaus Barbie

1995 : discours de Jacques Chirac lors de la commémoration de la rafle du Vél'd'Hiv'

1997-1998 : procès de Maurice Papon

SUJET III.
ÉTUDE D'UN ENSEMBLE DOCUMENTAIRE

Quelle est la place de l'Asie dans les relations internationales de 1945 à 1975 ?

Liste des documents :

Document n° 1 : les blocs en Asie (1944-1954).

Document n° 2 : déclaration du Président Truman sur la Corée et l'Extrême Orient, publiée le mardi 27 juin 1950 à Washington.

Document n° 3 : les grandes figures de Bandung (photographie).

Document n° 4 : l'intervention américaine au Vietnam.

Document n° 5 : le voyage du président Nixon à Pékin.

Questions

Première partie

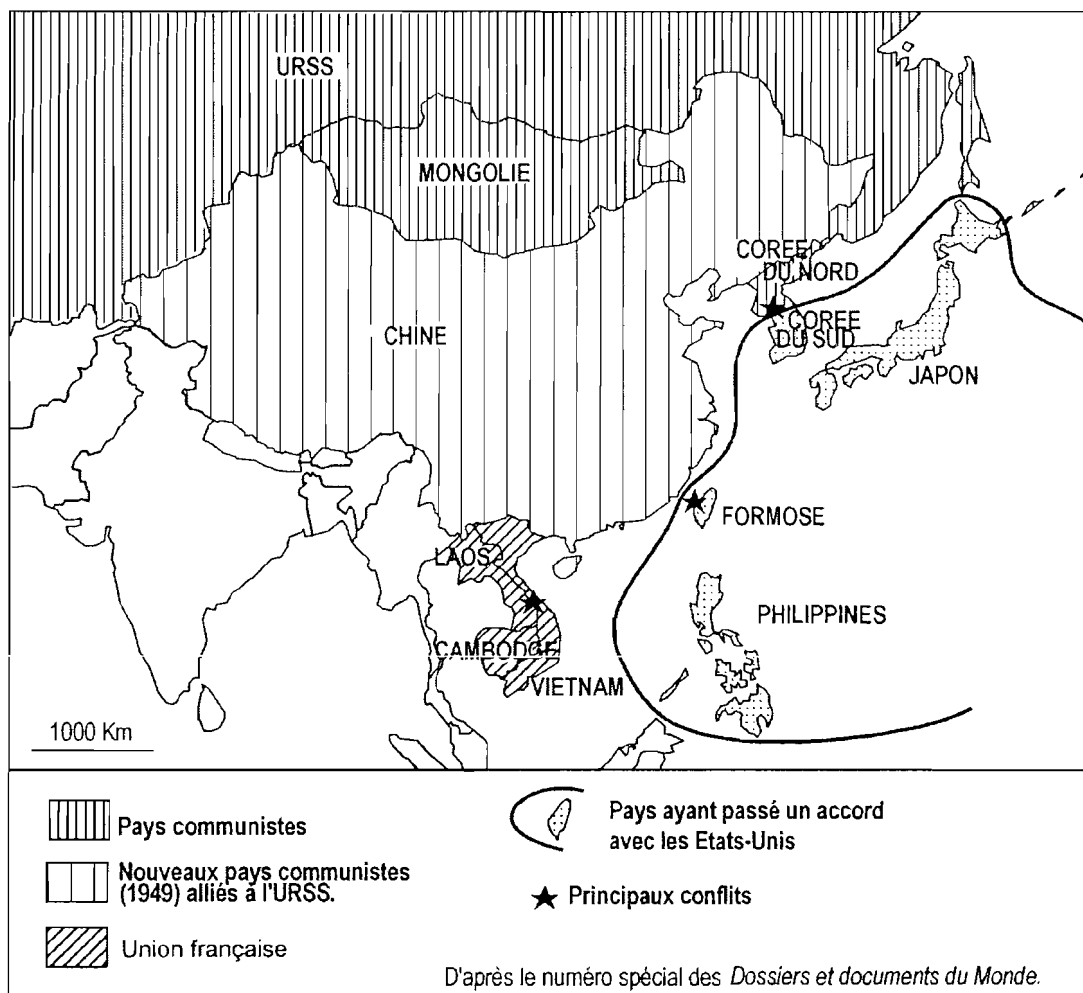
Analysez l'ensemble documentaire en répondant aux questions suivantes :

1. Relevez dans les textes 2 et 4 les arguments justifiant les interventions militaires américaines en Asie. À quelle doctrine font-ils référence ?
2. Comment se manifeste la confrontation Est-Ouest en Asie ? (document 1)
3. De quelle évolution majeure dans les relations internationales le document 3 est-il révélateur ?
4. À partir de l'ensemble du dossier, dites comment a évolué la position de la Chine dans la guerre froide de 1949 et 1975 ?

Deuxième partie

À l'aide des réponses aux questions, des informations contenues dans les documents et de vos connaissances, rédigez une réponse organisée au sujet : « Quelle est la place de l'Asie dans les relations internationales de 1945 à 1975 » ?

Document n° 1 : Les blocs en Asie (1944-1954)



Document n°2 : Déclaration du président Truman sur la Corée et l'Extrême Orient (27 Juin 1950)

« En Corée les forces gouvernementales qui étaient armées pour empêcher des attaques de frontières et pour préserver la sécurité intérieure furent attaquées par une force d'envahisseurs venant de la Corée du Nord.

Le Conseil de sécurité des Nations unies a demandé aux troupes de l'envahisseur d'interrompre les hostilités, de se retirer derrière le 38^{ème} parallèle. Cela n'a pas été fait, mais au contraire les troupes de la Corée du Nord ont poursuivi leur attaque. Le Conseil de sécurité a demandé à tous les membres des Nations unies de l'aider à faire appliquer cette résolution. Dans ces circonstances, j'ai donné l'ordre aux forces de l'air et de mer des Etats-Unis d'apporter soutien et appui au gouvernement coréen.

L'attaque contre la Corée indique clairement, au delà de tout doute, que le communisme a dépassé le stade de l'emploi de mesures subversives pour conquérir des nations indépendantes, et emploiera maintenant l'invasion armée et la guerre.

Le communisme a défié les ordres du Conseil de sécurité des Nations unies qui ont été proclamés pour préserver la paix internationale et la sécurité. Dans ces circonstances l'occupation de Formose¹ par les forces communistes serait une menace directe à la sécurité de la région du Pacifique et aux forces des États-Unis, qui accomplissent leur œuvre nécessaire et légale dans cette région.

En conséquence, j'ai donné l'ordre à la VIIème flotte américaine du Pacifique d'empêcher toute attaque contre Formose. En corollaire de cette action, je demande au gouvernement chinois à Formose de cesser toute opération aérienne et navale contre le continent chinois (...). Toute décision quant au statut futur de Formose devra attendre la restauration de la sécurité dans le Pacifique, un traité de paix avec le Japon ou une décision des Nations Unies.

¹ aujourd'hui Taiwan.

Document n°3 : Les grandes figures de la conférence de Bandung (1955)



1 : Nehru, Premier ministre de l'Union indienne.

2 : Soekarno, Président de l'Indonésie.

3 : Zhou Enlai, Premier ministre chinois.

Document n°4 : L'intervention américaine au Vietnam, article du journal Le Monde, février 1965.

M. Robert McNamara a déclaré jeudi dernier à Washington que la situation actuelle au Vietnam du Sud était « grave mais certainement pas désespérée ».

Le Secrétaire américain à la défense a fait cette déclaration au cours d'une déposition devant la commission des forces armées du Congrès (...). Il a ensuite rendu compte de cette réunion devant les journalistes.

L'issue de la lutte engagée au Vietnam du Sud est la clé de voûte de la stratégie visant à arrêter l'expansion du communisme dans le Sud-Est asiatique et dans d'autres régions du monde, a déclaré en substance M. McNamara : (...) « L'enjeu du Vietnam du Sud est de loin plus important que l'abandon d'une petite nation au communisme. Nous pouvons être certains que dès qu'ils auront obtenu le contrôle du Vietnam du Sud les communistes poursuivraient leur campagne subversive au Laos et ensuite en Thaïlande. Nous aurions donc à faire face au même problème une nouvelle fois ailleurs ou bien à consentir à leur abandonner l'Asie du Sud-Est par défaut ».

Le Secrétaire d'Etat à la défense a d'autre part déclaré qu'un succès communiste au Vietnam du Sud consoliderait la position de la Chine en faveur d'une révolution violente. « Les Chinois auraient alors fait un pas de géant dans leur lutte avec les Russes, moins belliqueux, pour le contrôle du mouvement communiste. Un tel succès accroîtrait également considérablement le prestige de la Chine communiste parmi les nations non alignées et renforcerait la position de ses partisans partout dans le monde ».

Deuxième partie

GÉOGRAPHIE

CROQUIS DE GÉOGRAPHIE :

Le candidat choisit UN des deux sujets proposés.

Il réalise un croquis à partir du fond de carte fourni, accompagné d'une légende organisée.

SUJET I.

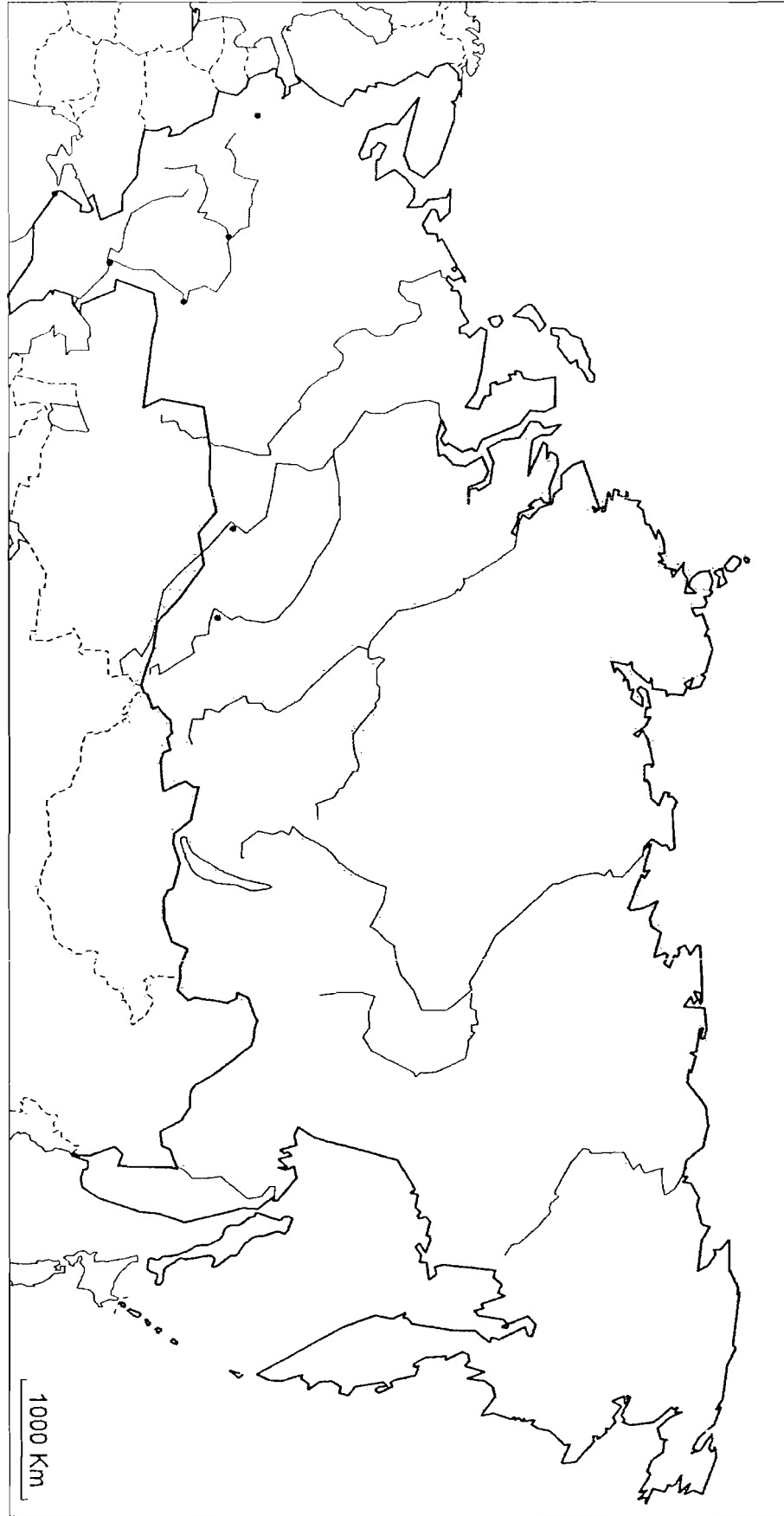
La Russie, centre et périphéries.
Utiliser le fond de carte page 9.

SUJET II.

L'aire de puissance de l'Asie orientale.
Utiliser le fond de carte page 10.

Voir feuilles annexes, pages 9/10 et 10/10

FIGURE :



TITRE :

