

EXAMEN : B E P	SESSION 2010	N° du sujet : 09.032
SPÉCIALITÉ : toutes options		SUJET
SECTEUR :		FOLIO : 1/4
ÉPREUVE : histoire-géographie		VICE-RECTORAT
DURÉE DE L'ÉPREUVE : 1 h COEFF : 1 Industriel...		NOUVELLE-CALÉDONIE
	COEFF :2 Tertiaire	

SUJET.

LE MONDE D'AUJOURD'HUI : UN MONDE INTERDÉPENDANT.

Document 1 : Airbus A380, un vrai concentré de mondialisation.

En début d'année prochaine, le plus gros porteur du monde accomplira son premier vol. Un Airbus géant fabriqué en kit aux quatre coins de l'Europe et assemblé à Toulouse. Visite sur les chantiers où sont effectués les derniers tests avant le lever de rideau.

[...] Remonter la filière de l'A380 vous embarque dans un voyage improbable. Le bout du nez vient de Meaulte, à quelques kilomètres de Lille. Les ailes de Broughthon, au pays de Galles. La carlingue est de provenance française et allemande. Et la queue de l'avion se divise entre Puerto Real en Andalousie (pour la traverse horizontale) et la banlieue de Hambourg (pour la traverse verticale).

[...] À l'intérieur du hangar, la même impression de démesure domine. Difficile d'imaginer a priori ce que contient une aile d'avion de la taille de celle de l'A380. Un vrai concentré de mondialisation. Un bout de tôle vient de Corée, un autre du Japon, l'extrémité d'Australie. À l'intérieur de l'aile, un fatras de tubes, de fils électriques et de boîtiers électroniques en provenance du monde entier. Environ 46% de l'A380 est acheté directement aux États-Unis.

D'après Biseau Grégoire, le 15/10/2004.

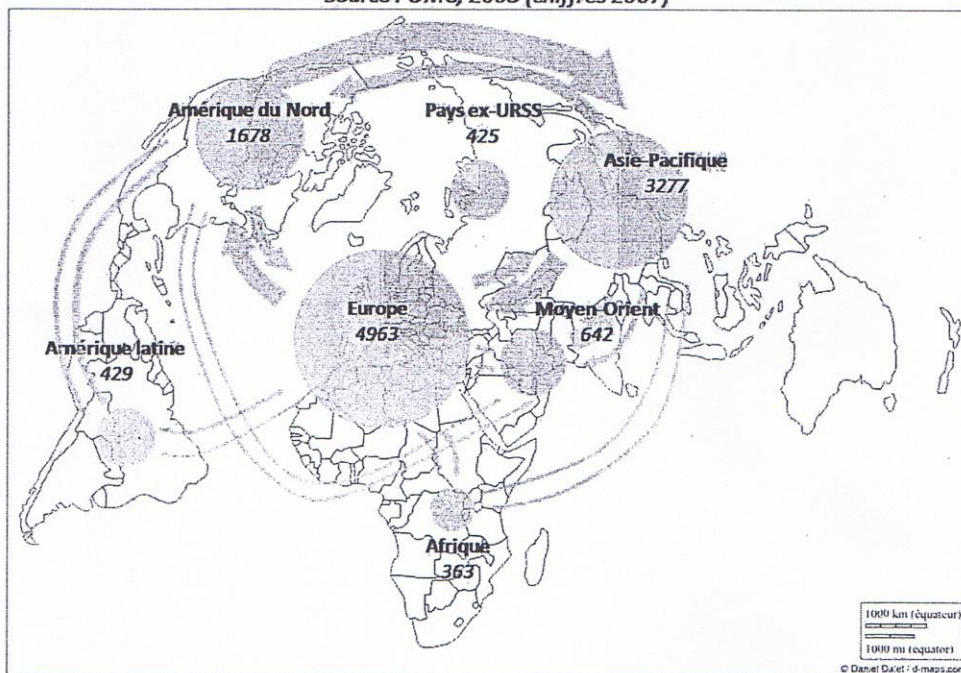
Source : <http://www.liberation.fr/grand-angle/0101505432-airbus-a380-l-envol-du-puzzle>.



EXAMEN : B E P	SESSION 2010	N° du sujet : 09.032
SPÉCIALITÉ : toutes options		SUJET
SECTEUR :		FOLIO : 2/4
ÉPREUVE : histoire-géographie		VICE-RECTORAT
DURÉE DE L'ÉPREUVE : 1 h COEFF : 1 Industriel...		NOUVELLE-CALÉDONIE
	COEFF : 2 Tertiaire	

DOCUMENT 2 :

Les flux du commerce international

Source : OMC, 2008 (chiffres 2007)



-  Part des échanges commerciaux réalisés à l'intérieur de la zone
-  Part des échanges commerciaux réalisés à l'extérieur de la zone



Flux commerciaux interrégionaux (la grosseur du trait est proportionnel à l'importance du flux : ici le plus gros flux, 700 milliards de dollars)

Montant total du commerce de marchandises (en milliards de dollars)

EXAMEN : B E P	SESSION 2010	N° du sujet : 09.032
SPÉCIALITÉ : toutes options		SUJET
SECTEUR :		FOLIO : 3/4
ÉPREUVE : histoire-géographie		VICE-RECTORAT
DURÉE DE L'ÉPREUVE : 1 h	COEFF : 1 Industriel...	NOUVELLE-CALÉDONIE
	COEFF :2 Tertiaire	

Document 3 : des entreprises multinationales plus riches que des pays.

La compagnie pétrolière Exxon Mobil était la plus grosse entreprise au monde en 2000 mais aussi la 45^{ème} entité économique la plus importante devant le Pakistan ou le Pérou. Extrait d'un classement des Nations Unies qui a pris en compte la valeur ajoutée.

Exxon Mobil ou General Motors sont, au plan économique, plus importantes que des pays tels que le Pakistan ou le Pérou. Ce constat émane d'un classement effectué par la conférence des Nations Unies pour le Commerce et le développement (CNUCED), organe rattaché à l'ONU, qui recense les cent entités économiques les plus importantes du monde pour l'année 2000, pays et entreprises confondus. Ces dernières trusant vingt-neuf places sur cent. La première entreprise multinationale, la compagnie pétrolière Exxon Mobil, apparaît au 45^{ème} rang, juste derrière le Chili et devant le Pakistan. Le Nigeria se positionne en 57^{ème} place, entre le groupe automobile Daimler Chrysler et General Electric...

Ainsi, les États-Unis se placent sans surprise en tête avec un PIB* de 9000 milliards de dollars, soit plus du double de celui du Japon qui occupe la 2^{ème} place de la liste. La France étant cinquième avec un PIB de 1 294 milliards de dollars. La première entreprise, Exxon Mobil, affiche une valeur ajoutée de 63 milliards de dollars contre les 62 milliards de PIB enregistrés par le Pakistan.

D'autre part, selon les conclusions de l'étude, la valeur ajoutée des cent plus grosses entreprises a augmenté plus rapidement que le PIB des pays. L'importance de ces entreprises est donc de plus en plus grande.

D'après L'Expansion.com, 13/08/2002.

http://www.lexpansion.com/economie/actualite-economique/des-entreprises-multinationales-plus-riches-que-des-pays_95981.html.

*PIB : produit intérieur brut.

EXAMEN : B E P	SESSION 2010	N° du sujet : 09.032
SPÉCIALITÉ : toutes options		SUJET
SECTEUR :		FOLIO : 4/4
ÉPREUVE : histoire-géographie		VICE-RECTORAT
DURÉE DE L'ÉPREUVE : 1 h	COEFF : 1 Industriel...	NOUVELLE-CALÉDONIE
	COEFF :2 Tertiaire	

QUESTIONS

Document 1 :

- 1) Citez les pays européens dans lesquels sont fabriquées les différentes parties de l'A 380. Comment expliquer cette situation ?
- 2) Justifiez l'expression « Un vrai concentré de mondialisation ».

Document 2 :

- 3) Nommez les ensembles régionaux entre lesquels les échanges sont les plus importants, puis celui qui participe le moins aux échanges mondiaux.
- 4) Quel est l'ensemble régional pour lequel les échanges à l'intérieur de la zone sont les plus importants ?

Document 3 :

- 5) Que montre le classement CNUCED sur la richesse des entreprises multinationales et des pays ?

Documents 1, 2 et 3 :

- 6) À l'aide de l'ensemble des documents et en faisant appel à vos connaissances, montrez dans un développement d'une quinzaine de lignes que le monde d'aujourd'hui est un monde interdépendant et inégal.