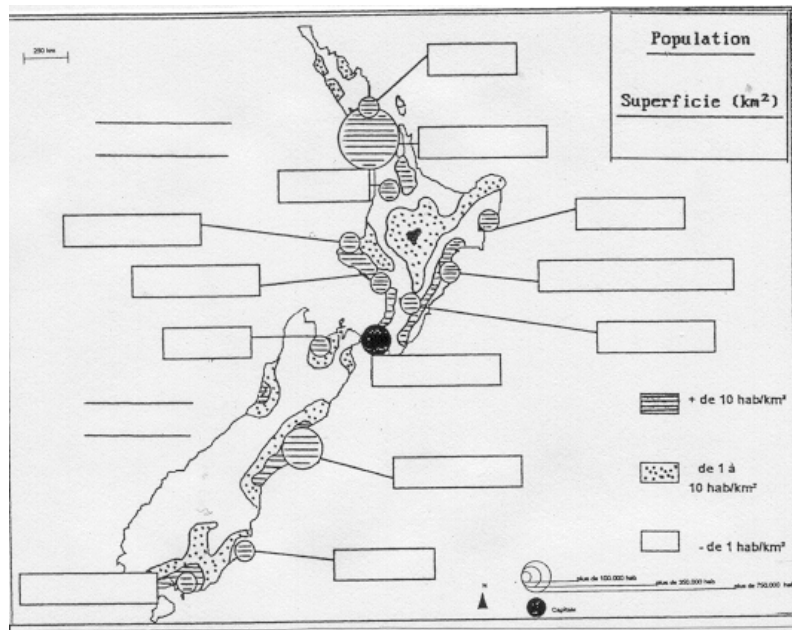


B- La Nouvelle-Zélande

la répartition de la population en Nouvelle-Zélande :

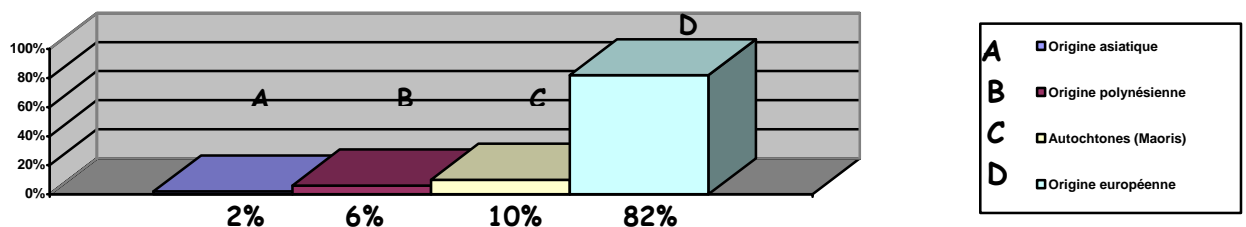
* Quels sont les grands déséquilibres dans la répartition de la population ?



- 1- Complétez et coloriez la légende de la carte.
- 2- Après avoir recherché le nombre d'habitants et la superficie, calculez la densité humaine de la Nouvelle-Zélande :
- 3- Placez les 4 villes suivantes : Auckland, Wellington, Dunedin et Christchurch.
- 4- Contrairement à l'Australie comment apparaît le pays ?
- 5- Où se concentre la population ?
- 6- Quelles raisons peut-on avancer pour expliquer cette répartition?
- 7- Proposez une réponse à la problématique initiale :

Une mosaïque ethnique :

* Peut-on parler d'une société multiculturelle ?

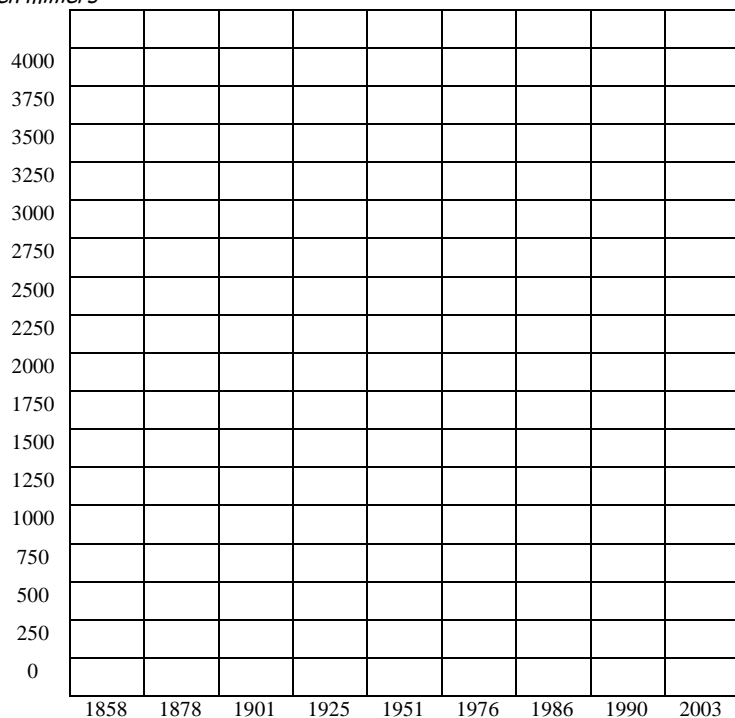


- 1- Classez par ordre décroissant les différentes communautés qui forment la population néo-Zélandaise :
- 2- Parmi les différentes communautés, laquelle est autochtone ? Quel pourcentage représente-t-elle par rapport à la population totale ?
- 3- Peut-on parler d'une société multiculturelle ?

L'immigration renforce-t-elle le caractère multiculturel de la société ?

Document 1 : L'évolution du nombre d'habitants en Nouvelle-Zélande.

Nombre
en milliers



Dates	Habitants
1858	115 462
1878	458 007
1901	815 862
1925	1 408 139
1951	1 939 472
1976	3 129 383
1986	3 307 084
1990	3 374 000
2003	3 830 800

Document 2 : L'immigration en Nouvelle-Zélande

La population de la Nouvelle-Zélande s'est accrue de manière régulière du milieu du XIX^{ème}S. Jusqu'à la deuxième guerre mondiale, principalement en raison d'une immigration d'origine européenne. Les années 50 et 60 ont été marquées par une très forte immigration de même origine.

Les nouvelles donnes de l'immigration récente, Michel Lextrety.

Depuis 1969 toutefois, on assiste à un renversement total de tendance et à une nouvelle donne, puisque cette année-là la Nouvelle-Zélande enregistre un solde migratoire négatif, la faisant basculer du camp des pays qui attirent dans celui des pays que l'on quitte (pour l'Australie surtout). Les politiques vis-à-vis de l'immigration doivent alors être repensées : assouplissement de la sélection, réduction des taxes à l'immigration, aide au transport, campagnes d'information en Europe et aux Etats-Unis... il s'en suit une relance notable dans les années 73-75, vite freinée par le gouvernement du fait des difficultés économiques du pays liées au choc pétrolier et aux conséquences de l'entrée du Royaume-Uni dans le marché commun. Le déficit migratoire réapparaît aussitôt et en 1987 de nouvelles mesures incitatives sont votées. La nature de l'immigration elle-même a changé et l'on voit arriver de plus en plus de populations océaniques. Celles-ci fournissent actuellement 40% des immigrants.

A l'aide des documents, répondez aux questions :

1- A partir du tableau (document 2), construisez un histogramme de l'évolution du nombre d'habitants en Nouvelle- Zélande.

2- Que constate-t-on en Nouvelle-Zélande depuis 1969 ?

3- Quelles en sont les raisons ?

4- Quelle en est la conséquence ?

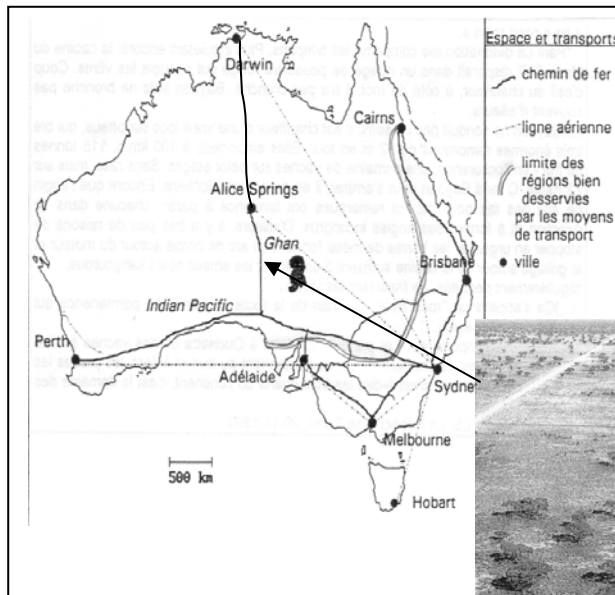
5- Aujourd'hui, quelles sont les principales populations qui immigreront en Nouvelle-Zélande ?

6- Depuis quand les populations océaniques arrivent en Nouvelle-Zélande ?

III- L'organisation de l'espace : un enjeu important

* Comment l'Australie fait-elle face à l'immensité de son territoire ?

• Lutter contre l'immensité



Les « road train ».
« Pan ! La détonation me comprime les tympans. Plus inquiétant encore : la cabine du Mack CLR disparaît dans un nuage de poussière rouge qui aveugle les vitres. Coup d'œil au chauffeur, à côté de moi : il n'a pas bronché. Bayden Mills ne bronche pas souvent d'ailleurs.



(...) Bayden ne conduit pas un semi. Il est chauffeur d'une vraie loco sur pneus, qui tire trois énormes remorques de 52 m en tout. Elles emportent, à 100 km/h, 115 tonnes de fret en l'occurrence, une centaine de vaches sur deux étages. Sans rails, mais sur 72 roues. Quand Bayden veut s'arrêter, il en a pour un kilomètre. Encore que l'engin ne soit pas fait pour ça : les remorques ont tendance à partir chacune dans sa direction et à former des angles incongrus. D'ailleurs, il y a très peu de raisons de stopper en urgence : les barres de métal forment un arc de cercle autour du moteur et le grillage autour de la cabine suffisent à empêcher les émeus et les kangourous, régulièrement percutés, de fracasser les vitres.

(...) Ça s'appelle un « road train » : un train de la route. Il y en a en permanence qui foncent dans le désert (...). Ils apportent n'importe quoi, et partout : du plâtre à Oodnatta ou des vaches à Alice Springs. Les lignes de chemins de fer se cantonnent au Sud et à l'Est, les parties les plus habitées. Le reste, c'est-à-dire les trois quarts du continent, c'est le domaine des road train. »

John Moyle. La dépêche de Tahiti. 20.11.1993

- 1- Quel est le problème majeur qui se pose en Australie ?
- 2- De quel moyen de transport est-il question dans le texte ?
- Quels produits sont transportés?
- Dans quelle partie de l'Australie est-il utilisé plus particulièrement ? Pourquoi ?
- 3- D'après la carte, quel autre moyen de transport est beaucoup utilisé sur de longues distances dans ce pays ?
- 4- Quelle est la partie de l'Australie qui apparaît comme un espace construit, bien desservi par un réseau de voies de communication assez dense et multiforme ?
- 5- Quelle est celle qui apparaît au contraire comme un espace dénué de pôles attractifs ou de nœuds de communication?

Je retiens :

Afin de surmonter le handicap lié à l'....., les Australiens ont dû fournir de gros efforts en matière de
Le réseau routier n'est dense que dans le Ailleurs le pays est sillonné par de grands axes qu'utilisent les
 engins pouvant tirer jusqu'à quatre remorques (80% du transport de marchandises est assuré par la route).
Le réseau ferré s'allonge sur 35 000 km, ce qui est peu si on tient compte de la superficie du pays. On note quelques grandes lignes comme l'..... qui relie à
 On notera également le développement du trafic et

• Lutter contre l'isolement

Par quels moyens est rompu l'isolement des familles habitant l'outback ?

-
-
-
-

Médecins volants et écoles des ondes

« C'est à Alice Springs que se trouve l'organisation *Flying Doctor service*. Près d'un milliers d'habitants des régions de l'intérieur utilisent les services de cet organisme. Lorsqu'ils ont besoin d'une prescription ou d'un conseil, ils contactent le *Flying Doctor* par radio, à l'aide d'un récepteur-émetteur couvrant 2000km. Si la maladie, ou la blessure, n'est pas grave, le médecin prescrit un des médicaments que toute famille isolée possède dans sa pharmacie personnelle. Lorsqu'il s'agit d'un cas plus sérieux, un avion ambulance, ou un hélicoptère, va chercher immédiatement le malade et le ramène à l'hôpital. »
 « Pour les enfants qui grandissent dans les fermes isolées, rendre visite à leurs amis « d'à côté » peut vouloir dire faire 100km. Ils suivent des cours par correspondance, ou par radio, grâce à l'une des douze écoles par radio. »



Peter CRAWSHAW ; « Australie » coll. Pays et peuple, Hachette 1989.

IV- Le développement des deux pays

Malgré leurs différences, ces deux pays tentent de se développer. De quelle manière ?

A- L'Australie : le défi économique

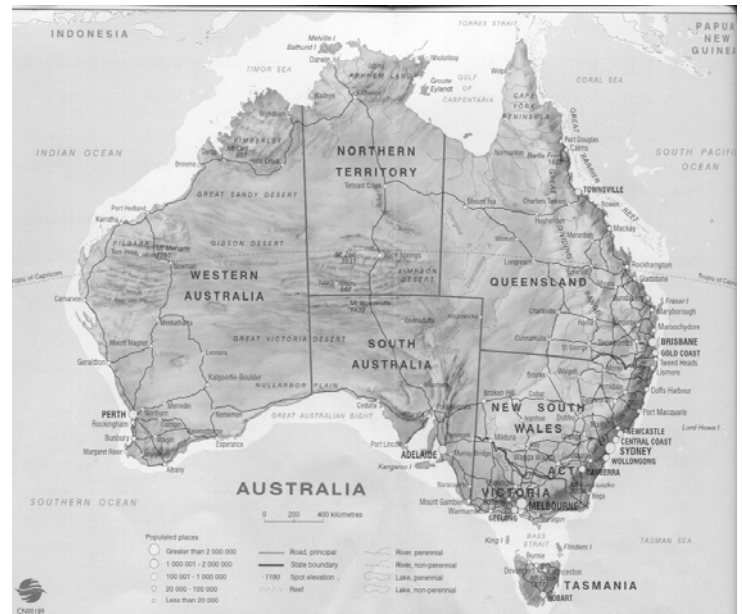
* D'où vient la richesse de l'Australie ? Quelles sont les bases de son économie ?

- Des ressources minérales abondantes :

« L'Australie exporte une grande quantité de minerais extraits du territoire du Nord, de l'Australie Occidentale et de la Nouvelle-Galles du Sud. D'énormes dépôts de minerai de fer, de bauxite (dont on fait l'aluminium), de plomb, de zinc, de cuivre, d'or, de pétrole -et même de diamants et d'opales sont enfouis sous la terre rouge.

Les plus importantes réserves de bauxite du monde se trouvent à Weipa, au nord de l'état du Queensland. Dans la région de Pilbara en Australie occidentale, d'immenses mines à ciel ouvert produisent du minerai de fer, exporté essentiellement au Japon et aux Etats-Unis. Mais la ville minière la plus extraordinaire est peut-être Coober Pedy, à 960 km au nord-ouest d'Adélaïde, en Australie Méridionale. Elle est au centre du plus important gisement d'opales du monde. Dans la langue des aborigènes, Coober Pedy signifie *l'homme qui vit dans un trou*. Encore aujourd'hui la plupart des habitants de la ville vivent dans des habitations troglodytiques creusées à flanc de colline. Ils sont ainsi protégés de la chaleur accablante, car il peut faire 50° à Coober Pedy, pendant plusieurs jours de suite. »

Peter CRAWSHAW ; « Australie » coll. Pays et peuple, Hachette 1989.



A l'aide des documents, répondez aux questions :

Relevez les diverses ressources minérales et leur situation en Australie :

Que fait l'Australie d'une partie de ses ressources minérales ?

Quels sont les gros clients de l'Australie?

- Une grande puissance agricole :

La puissance agricole australienne est considérable : un exportateur majeur

Malgré l'aridité d'une grande partie des terres, l'Australie est un vaste pays agricole. La viande, les produits laitiers, les produits de la mer, le vin, le sucre, les céréales, les fibres et le bois constituent les huit piliers de l'agriculture. Les terres du vaste corridor oriental suffisent à faire du pays l'un des premiers exportateurs mondiaux de laine, de viande, de blé et de coton. (...)

Les productions végétales concernent les céréales avec 27.4 millions de tonnes en 1990, notamment le blé et l'orge. Les rendements sont faibles, il s'agit de cultures extensives (céréales en 1990 ; 16 quintaux/ha, France : 60). L'année 1990 a été très médiocre.

Les productions animales concernent tout d'abord les ovins (premier troupeau du monde) avec 120 000 000 têtes, ensuite les bovins avec 27 558 000 têtes en 1991.

(...) L'Australie est le deuxième exportateur mondial de blé et le premier producteur mondial de laine. (...)

La balance agricole est très largement excédentaire.

D'après Atlaseco, 2003.

Que signifie ?

Rendements faibles :

Cultures extensives :

Balance agricole excédentaire :

Comment se présente l'agriculture australienne ?

Quelles sont les principales productions de l'Australie ?

A quoi est destinée en général cette production ? Pourquoi ?

- Le tourisme

Document 1 : Sanctuary Cove. Queensland.



Les visiteurs étrangers ont contribué à la diversification de la base économique du pays.
L’Australie en bref. ATC. 1998

Document2 : Le boum touristique

Avec la crise économique de la fin des années 70, l’Australie s’est rendue compte que ses immenses réserves de matières premières ne suffisaient plus à faire tourner la machine économique et, surtout, à maintenir et créer des emplois. Elle s’est alors souvenue qu’elle disposait aussi d’un extraordinaire capital touristique : plages, soleil, paysages, et... sécurité.

Le pays a commencé à ouvrir ses frontières, qui demeuraient plutôt verrouillées, à s’équiper en grands hôtels, stations balnéaires, aéroports internationaux, à former des cadres et des employés très compétents dans tous les secteurs, enfin à profiter de quelques événements médiatiques mondiaux (Coupe de l’Amérique, Bicentenaire, Grand prix), pour se faire connaître à travers le monde. Le résultat est impressionnant : plus de 7.7 milliards de \$A de recettes en 1992, soit 5.6% du produit national brut, 10% des recettes à l’exportation et près de 465 000 emplois dans le secteur. Le principal marché est le Japon qui envoie, chaque saison vers les plages de Queensland, des charters entiers de jeunes couples pour de torrides et exotiques *honey moons* (lune de miel). Les Français sont également de plus en plus nombreux à découvrir les antipodes : 10 000 par an au début des années 80, 35 000 en 94-95.

« En Australie ». Guides Visa. Hachette 1995

- 1- Quel problème rencontre l’Australie à la fin des années 70 ? Qu’est-ce que cela entraîne?
.....
- 2- Quelle solution envisage-t-elle pour faire face à cette situation?
.....
- 3- Quels sont alors les moyens mis en œuvre pour développer cette initiative?
.....
- 4- Quels en sont les résultats?
.....

- L’économie australienne

L’Australie compte une économie hautement diversifiée et un niveau de vie élevé. Le secteur des services représente près de trois-quarts du PNB, mais les autres secteurs économiques contribuent largement aux revenus d’exportation australiens. L’industrie manufacturière est concentrée sur le fer, l’acier et l’ingénierie. Le secteur agricole joue un rôle prédominant, générant 40% des revenus d’exportation, bien que l’importance relative de ce secteur ait diminué ces dernières années en raison de la croissance exceptionnelle de l’exploitation minière. L’Australie abrite de vastes réserves de charbon (dont elle est aujourd’hui le premier exportateur mondial), de pétrole, de gaz naturel, de nickel, de zircon, de fer, de bauxite, d’uranium et de diamants.

Les industries nationales des services, qui représentent aujourd’hui la majeure partie de l’économie, enregistrent une croissance régulière (...).

Le premier partenaire commercial de l’Australie est le Japon, qui représente près d’un tiers des exportations - suivi des Etats-Unis, de la Corée du Sud, la Nouvelle-Zélande, Singapour, Taïwan, la Chine, puis les pays de l’Union Européenne. L’investissement japonais en Australie, notamment dans l’immobilier et le tourisme, est si important qu’aujourd’hui la majorité de la « Gold Coast » sur le littoral oriental appartient à des Japonais.

[http : //WWW.guidemondialdevoyage.com/data/aus/aus490.asp](http://WWW.guidemondialdevoyage.com/data/aus/aus490.asp)

Vous êtes capable de déterminer à l’aide de ce que vous venez de voir et du document sur l’économie australienne, les bases de l’économie australienne :

.....
.....
.....
.....
.....

B- La Nouvelle-Zélande: une économie en pleine mutation

* Quel type d'activité domine ? Vers une diversification de l'économie ?

- l'agriculture : un secteur agricole très développé

Document 1 : le pays du mouton

Si elle n'occupe que 9% de la main d'œuvre, l'agriculture reste un secteur vital pour la Nouvelle-Zélande. Elle occupe 79% de son sol et assure près de 50% de ses exportations. Les colons ont très tôt découvert la richesse des ressources agricoles du pays. La qualité du climat et des pâturages, en particulier dans la plaine fertile du Canterbury (île du Sud), a permis le développement de l'élevage dès les années 1840.

En 1882, la première cargaison de viande congelée quittait Dunedin pour relier Londres en trois mois... L'invention de la congélation constitue une date historique pour la Nouvelle-Zélande. En assurant le lien entre la surproduction de l'élevage néo-zélandais et la pénurie de viande en Europe, les transports réfrigérés font de l'élevage la source essentielle de la prospérité du pays. La trilogie viande-laine-produits laitiers dominera l'économie jusqu'à nos jours.

L'élevage ovin, sur lequel repose l'industrie de la laine et la majeure partie de la production de viande, est la spécialité néo-zélandaise par excellence. Ce cheptel atteint aujourd'hui plus de 65 millions de têtes. La Nouvelle-Zélande assure à elle seule près de la moitié de la production mondiale de viande d'agneau et de mouton.

D'après M. Lextreyt

Document 2 : une puissance exportatrice.

Le secteur primaire assure traditionnellement plus de 50% des exportations. La moitié de la surface agricole est consacré à l'élevage. La richesse des sols, l'usage de technologie de pointe, le climat qui autorise des pâtures tout au long de l'année ont permis à la Nouvelle-Zélande de compenser son éloignement géographique. La richesse du pays dépend, pour une large part, des cours mondiaux de la viande, de la laine et des produits laitiers. (...) Il y a 20 ans, la Nouvelle-Zélande était le seul producteur de kiwis au monde, alors qu'aujourd'hui il n'assure plus que 27% de la production mondiale. (...)

Atlaseco 2003

Document 3 : Productions agricoles.

(cheptel en millions de têtes, autres productions en millions de tonnes)

	1998	1999	2000	2001
Blé	0.302	0.320	0.326	0.364
Orge	0.340	0.304	0.302	0.296
Pommes de terre	0.500	0.500	0.500	0.500
Vin	0.061	0.060	0.060	0.053
bovins	8.873	8.960	9.120	9.370
Ovins	45.956	45.680	45.379	43.987
Porcins	0.351	0.369	0.369	0.354

Atlaseco 2003

La Nouvelle-Zélande tient le record mondial avec 14 moutons par habitant.

Pourquoi dit-on qu'en Nouvelle-Zélande, il y a plus de moutons que d'hommes ?

.....
.....

Pourquoi l'agriculture est-elle un secteur vital pour le pays ?

.....
.....

Qu'est-ce qui a permis son développement ?

.....
.....

Sur quels produits reposent les exportations ?

.....
.....

De quoi dépendent ses exportations ?

.....
.....

- une économie en pleine mutation

Document 1 : une politique économique

Longtemps considéré comme l'un des pays les plus protectionnistes du monde, la Nouvelle-Zélande s'est engagée à partir de 1984, dans une spectaculaire transformation de ses structures économiques et est en quelque sorte devenue, en l'espace d'une dizaine d'année, une sorte de « laboratoire » du libéralisme économique. Jusqu'au début des années 1980, l'économie néo-zélandaise se caractérisait en effet par son caractère peu ouvert sur l'extérieur et par un haut degré d'interventionnisme économique. L'entrée de la Grande-Bretagne dans la communauté européenne et l'abandon simultané du système de la « préférence impériale », le haut niveau du système de protection sociale néo-zélandais et les deux chocs pétroliers avaient souligné l'inadaptation des structures économiques néo-zélandaises à la compétition économique internationale. (...)

C'est dans ce contexte qu'à partir de 1984, une modification complète de la politique économique néo-zélandaise s'est opérée au profit d'une approche résolument libérale : les principaux secteurs de l'économie – à commencer par l'agriculture – ont été libéralisés, les protections commerciales réduites, le secteur public diminué et son efficacité améliorée. (...)

La Nouvelle-Zélande est ainsi devenue aujourd'hui le pays où les subventions agricoles sont les plus faibles. Rares sont les secteurs qui n'ont pas été touchés par le mouvement de libéralisation. Les principales privatisations ont été effectuées entre 1987 et 1992 et il ne subsiste plus aujourd'hui qu'une quinzaine d'entreprises publiques. (...) L'économie néo-zélandaise constitue sans doute aujourd'hui l'un des marchés les plus ouverts, les plus transparents et les plus déréglementés du monde. La libéralisation et l'ouverture économique ont conduit naturellement à une intensification du commerce extérieur néo-zélandais.

*Extraits du rapport d'information du Sénat : Mission en Nouvelle-Zélande du 7 au 16 février 1997.
Direction des relations Economiques extérieures- France*

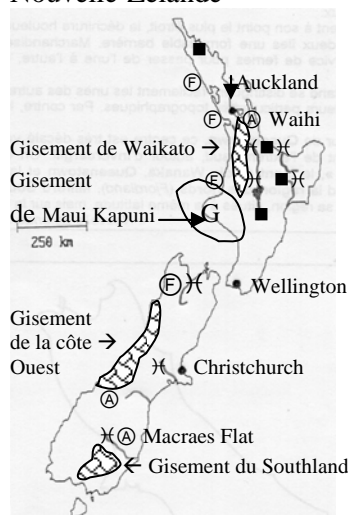
Document 2 : une nécessaire diversification

« Au cours des premières décennies de son histoire, la Nouvelle-Zélande exportait essentiellement des céréales et du bois.

Il faut attendre l'entrée de la Grande-Bretagne dans la C.E.E. pour que la Nouvelle-Zélande entreprenne une nécessaire diversification. Le secteur primaire, notamment l'élevage a fortement décliné, au profit des produits finis. A partir du second choc pétrolier (1979), le gouvernement porta une attention particulière aux secteurs de l'énergie et de l'industrie lourde. La Nouvelle-Zélande, en effet, n'est pas démunie de ressources minières : les sables des plages du Nord, contenant du fer, et des réserves de charbon considérables, fournissent les bases d'une industrie sidérurgique. Dans la région des fjords (île du Sud), l'hydroélectricité fournit une énergie abondante et bon marché, permettant la transformation de la bauxite venue d'Australie en aluminium. Au large de la côte Ouest de l'île du Nord, l'important gisement de gaz naturel de Maui, découvert en 1969 dans le golfe de Taranaki, permet d'alimenter une importante industrie pétrochimique. »

Henri ASTIER, Encyclopédie Universalis.

Document 3 : les ressources naturelles de la Nouvelle-Zélande



Légende :

- Energie géothermique
- ⌘ Barrage hydroélectriques
- Ⓐ Gisement d'or
- ⓕ Gisement de fer
- ▨ Gisement de charbon
- Ⓜ Gisement de gaz

Comment se caractérisait l'économie néo-zélandaise avant les années 80 ?

A partir de quand la Nouvelle- Zélande entreprend-elle une diversification ? Pourquoi ?

Quelles sont les actions entreprises qui ont permis à l'économie néo-zélandaise d'être plus libérale ?

Relevez les diverses ressources minérales et leur situation en Nouvelle-Zélande :

Quels sont alors les secteurs développés ?

Vous êtes capable de déterminer à l'aide de ce que vous venez de voir et des documents, les bases de l'économie néo-zélandaise :