

BACCALAURÉAT TECHNOLOGIQUE

Session 2018

Série ST2S

Sciences et technologies de la santé et du social

Histoire-Géographie

Durée : 2 heures 30

Coefficient : 2

Le candidat doit répondre à toutes les questions de la 1^{ère} partie.


10 points

Le candidat traitera au choix un seul des quatre exercices de la 2^{nde} partie.

10 points

Les calculatrices ne sont pas autorisées.

Ce sujet comporte 11 pages numérotées de 1/11 à 11/11.
Dès qu'il vous est remis, assurez-vous qu'il est complet.



PREMIERE PARTIE

(10 points)

Questions d'histoire :

1. Justifiez l'affirmation suivante : « Le projet européen est une construction économique et politique progressive ». **(2 points)**

2. Citez deux acteurs de la décolonisation de l'Afrique subsaharienne. **(1 point)**

3. Proposez deux dates-clés de l'histoire de la V^e République. **(2 points)**

Questions de géographie :

4. Choisissez la définition qui correspond le mieux au terme de mondialisation :
 - a- Phénomène qui supprime les écarts de développement dans le monde.
 - b- Processus d'interdépendance croissante entre les territoires du monde.
 - c- Organisation internationale associant un nombre croissant d'États de la planète.**(1 point)**

5. Justifiez l'affirmation suivante : « Les États peuvent agir pour attirer les firmes transnationales sur leur territoire ». **(2 points)**

6. Donnez deux caractéristiques majeures de la puissance de la France dans le monde. **(2 points)**

SECONDE PARTIE

Le candidat ou la candidate traitera, au choix, UN SEUL des quatre exercices.

Exercices portant sur les sujets d'étude du programme d'histoire

Exercice 1. Sujet d'étude : Berlin : une ville dans l'histoire, de 1945 à nos jours.

Document 1 : Pasteur* et dissident.

« A 18 ans, Rainer Eppelmann travaille comme poseur de tuiles pour nourrir sa mère et ses deux sœurs. Son père est maçon à Berlin-Ouest où il réside et possède un passeport ouest-allemand: le 13 août 1961, le mur est érigé, la famille séparée. Du jour au lendemain, le fils devient responsable de la famille. Avant la construction du Mur, lui et ses sœurs fréquentent un lycée ouest-berlinois qui offre la possibilité à des enfants de l'Est à qui le bac est refusé de passer celui-ci à l'Ouest. Le 13 août 1961 leur scolarité est interrompue. Dès septembre 1961, ils doivent se faire recenser et sont qualifiés de profiteurs de la frontière. [...] L'espoir d'obtenir un passeport ouest-allemand par leur père s'envole rapidement et la famille est de toute façon dépendante de lui.

Rainer Eppelmann est appelé sous les drapeaux [...] Lui et une autre recrue de son groupe refusent de prêter serment et sont alors condamnés à 8 mois de prison. Dans la prison militaire d'Uckerunde se fixe l'image qu'il se fait de la RDA : un lieu où les autres décident de ce que l'on doit faire et d'où on ne peut sortir.


Il devient ensuite pasteur dans la paroisse Samaritaine à Berlin-Friedrichshain. En tant que pasteur, il témoigne devant les paroissiens des difficultés et des injustices en RDA. [...] En 1979, 250 personnes se réunissent pour écouter de la musique, lire des passages de la Bible et voir des petits sketches politiques. En 1983, ils sont 7000 de toute la RDA à venir au temple Samariterkirche. Le gouvernement considère ces offices comme un sabotage de la politique officielle pour la jeunesse. A l'automne 1986, ils sont interdits, mais continueront sous d'autres formes. [...]

Rainer Eppelmann est l'un des membres les plus connus du mouvement religieux pour la paix et les droits de l'homme et le cofondateur en 1989 du parti d'opposition *Percée démocratique*. En 1990, il est nommé ministre sans portefeuille du gouvernement Modrow et après les élections démocratiques, le 18 mai 1990, ministre du Désarmement du gouvernement Lothar de Maizière. Jusqu'en 2005, il reste député du parlement fédéral ».

Source : Interview réalisée le 9 février 2001 par Anna von Arnim pour le Mémorial du Mur de Berlin (en allemand).

* Pasteur : personne chargée du culte dans la religion protestante.

Document 2 : Mstislav Rostropovitch¹ devant le Mur de Berlin désormais ouvert, 11 novembre 1989.



Source : Institut National de l'Audiovisuel, photographie du 11/11/1989.

1. Violoncelliste, opposant soviétique exilé à l'Ouest depuis 1974.
2. « *Willkommen in Ost-Berlin* » : Bienvenue à Berlin-Est.

Questions :

1. A l'aide du document 1, relevez les éléments qui montrent la rupture constituée par la construction du Mur de Berlin en 1961, dans la vie de R. Eppelmann.
2. A partir du document 1, justifiez l'affirmation suivante : « la RDA est un régime autoritaire ».
3. Montrez, à partir du document 2, que les événements de 1989 se déroulent dans une atmosphère pacifique.
4. Relevez, dans les deux documents, les éléments montrant que Berlin est représentative des relations internationales pendant la Guerre froide.

Exercice 2. Sujet d'étude : L'Espagne : de la dictature à la démocratie et à l'intégration communautaire (1975 à nos jours)

Document 1 : Anne ANDLAUER, « Adolfo Suárez, l'artisan de la transition démocratique de l'Espagne s'est éteint », *La Croix*, 23 mars 2014

« L'Espagne vous surprendra ». Cette prophétie, formulée en 1976, était aussi la promesse d'un homme à son peuple et à l'Europe. Celle du premier ministre Adolfo Suárez, nommé par Juan Carlos I^{er} sept mois seulement après la mort de Franco. Le roi lui-même avait surpris, lorsqu'il confia à cet inconnu de 43 ans les rênes de la transition démocratique espagnole. [...]

En un temps record, le gouvernement Suárez libéralise l'Espagne et démonte un à un les rouages de l'État franquiste. Les réformes s'enchaînent, sans rupture abrupte avec la légalité antérieure : amnistie générale et retour des exilés au pays, légalisation des partis politiques (communiste compris) et des syndicats, abolition de la censure, choix du bicaméralisme¹, élections démocratiques et victoire de l'UCD² le 15 juin 1977, nouvelle Constitution en 1978. [...]

Le baptême de ce dernier [Suárez] intervient le 6 décembre 1978, avec l'approbation par le peuple espagnol d'une nouvelle constitution. La transition ébauchée à la fin des années 1970 s'affirme dans cette « Carta Magna »³, fruit d'un compromis entre défenseurs de l'État central et partisans de l'autonomie des régions. « Chaque homme politique espagnol a une Constitution sous le bras », résumait Suárez avant le vote du texte. [...]

1. *Bicaméralisme* : Parlement composé de deux chambres, Congrès des députés et Sénat.
2. Union du Centre Démocratique.
3. *Carta magna* : Constitution.

Document 2 : Allocution à la télévision espagnole du roi Juan Carlos I^{er}, le 24 février 1981 à 1 heure du matin suite à la tentative de coup d'Etat. Source : site de la Radio-Télévision Espagnole.



Extrait du discours télédiffusé : « [...] La Couronne, symbole de la permanence et de l'unité de la Patrie, ne saurait tolérer en aucune façon des actions ou des attitudes de personnes qui prétendraient interrompre par la force le processus démocratique, que la Constitution votée par le peuple espagnol a fixé en son temps au moyen d'un référendum. »

Questions :

1. A l'aide du document 1, relevez les réformes menées suite à la mort de Franco.
2. Montrez, à partir du document 2, que la démocratie espagnole a encore connu des difficultés une fois mise en place.
3. À l'aide des deux documents, justifiez l'affirmation suivante : « le roi Juan Carlos joue un rôle très important dans le processus de transition démocratique ».
4. Indiquez, d'après les deux documents, les rôles d'au moins deux autres acteurs dans ce processus.

Exercice 3. Sujet d'étude : Les migrations internationales.

Document 1 : Gibraltar, la nouvelle route des migrants en 2017.

Selon Frontex, l'agence européenne de contrôle des frontières, plus de 2300 personnes ont emprunté illégalement la route de " Méditerranée occidentale " vers l'Espagne pour le seul mois de juillet. Soit quatre fois plus qu'un an auparavant. [...] Le nombre d'arrivées reste toutefois bien inférieur à celui de l'Italie, où près de 85 000 personnes sont arrivées depuis le début de l'année. Mais l'Espagne se rapproche de la Grèce, où l'OIM* a recensé plus de 9000 migrants, sur quelque 101 000 au total en Méditerranée depuis janvier.

Les migrants sont essentiellement des Africains venant de Guinée, de Gambie, de Côte d'Ivoire, du Cameroun et du Burkina Faso. Autant d'hommes, de femmes et d'enfants fuyant des situations politiques ou économiques instables. Si les migrants fuyant le conflit entre l'Irak et la Syrie sont également recensés, ils seraient moins nombreux que les années précédentes. En outre, s'ajoutent à ces flux des Marocains en provenance de la région du Rif (nord), théâtre d'un mouvement populaire.

Ils passent par l'Espagne pour ne plus passer par la Libye, où le chaos règne depuis la chute de l'ex-dictateur Mouammar Kadhafi. Le HCR**, lui, évoque des témoignages de conditions de vie " épouvantables " dans une quarantaine de centres de détention pour migrants. Autre raison pour expliquer ce trajet : son coût. " Les prix ont baissé et varient désormais autour de 900 euros par personne, contre 1500 à 2000 euros en 2016. Et pour le même prix, ils ont droit à trois tentatives pour rejoindre l'Espagne ". Malgré la fermeture des frontières ou la construction de murs, les migrations continuent. C'est une question de survie pour ces personnes. »

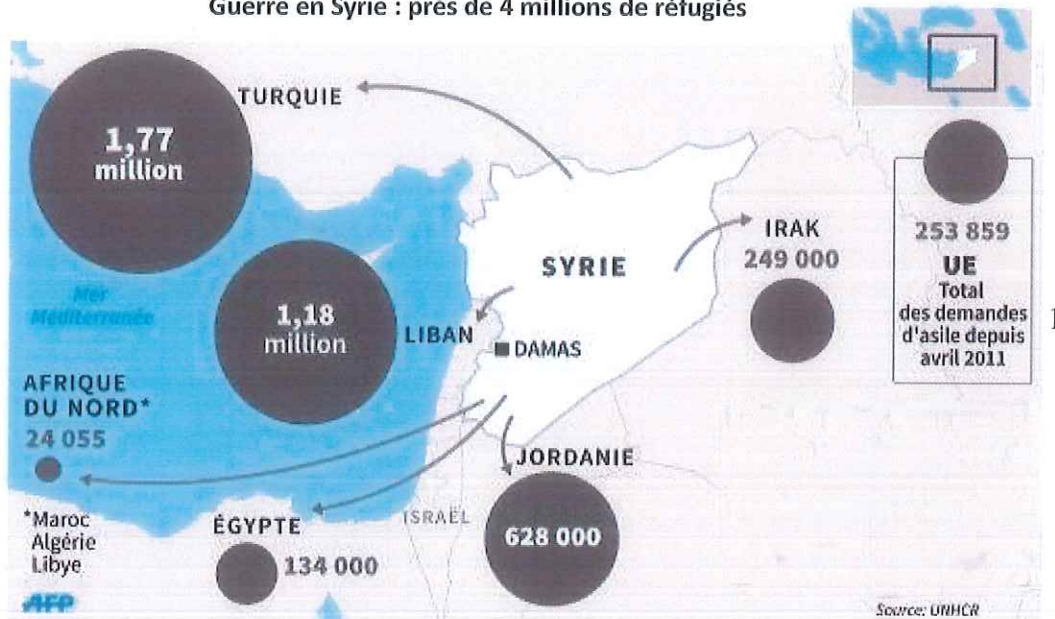
*OIM : Organisation internationale pour les migrations.

**HCR : Haut-Commissariat aux réfugiés.

Source : LCI, 8 septembre 2017, article de Thomas Guien.

Document 2 : les réfugiés syriens en 2015.

Guerre en Syrie : près de 4 millions de réfugiés



1. Droit d'asile : Droit de se réfugier dans un autre pays grâce au principe de liberté de circulation.

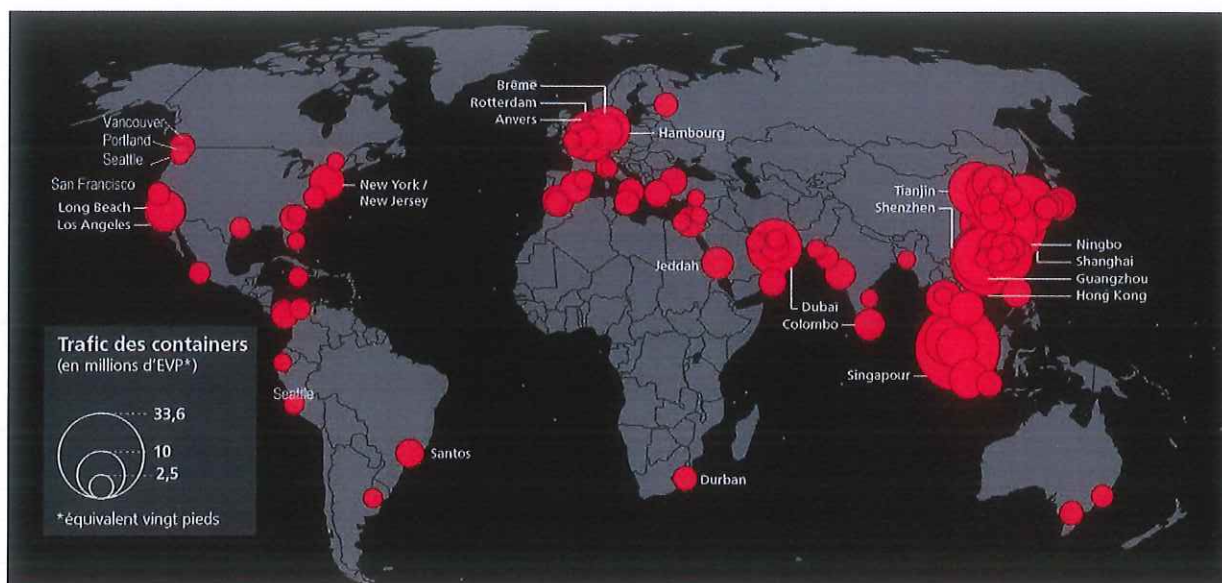
Source : Dilay GUNDOGAN et Maya GEBEILY, *Lepoint.fr*, publié le 16 juin 2015. D'après l'AFP et l'UNHCR (Haut Commissariat des Nations unies pour les réfugiés).

Questions :

1. Relevez, dans le document 1, les informations montrant que la Méditerranée est un espace migratoire important.
2. A l'aide des deux documents, identifiez deux raisons majeures des migrations à travers la Méditerranée.
3. « Les routes migratoires changent en fonction des crises politiques, économiques et militaires ». Justifiez cette affirmation en vous appuyant sur les deux documents.
4. En vous appuyant sur les deux documents, montrez que l'Europe n'est pas la destination principale des réfugiés syriens.

Exercice 4. Sujet d'étude : Transports et routes maritimes.

Document 1 : Les 100 premiers ports de marchandises dans le monde (2013).



Source : *Lloyd's Containerisation International – Atelier de cartographie de Science Po – 2014.*

Document 2 – Une nouvelle hiérarchie des ports mondiaux

La « conteneurisation » du monde est visible à l'œil nu pour les simples visiteurs dans les ports du monde, avec la longue et interminable file de bateaux qui viennent charger ou décharger les – de plus en plus immenses – porte-conteneurs. [...] Les énormes grues et portiques s'accompagnent maintenant d'un ballet incessant de porteurs robotisés au sol, entièrement automatisés, qui sont devenus une pièce essentielle dans l'empilage-dépilage de la charge. [...] Le marché mondial maritime, avec ses 1500 milliards d'euros annuels, représente un enjeu majeur pour l'économie mondiale. [...]

À partir des années 2000, l'Asie est devenue le continent porteur de la majorité des flux maritimes sur la planète. En particulier, et c'est déterminant dans le positionnement stratégique pour les prochaines décennies, les façades maritimes de l'océan Indien à l'océan Pacifique sont largement dominées par les flux maritimes asiatiques. Aujourd'hui la première économie, chinoise, se déploie vers les façades maritimes du Sud, vers l'Afrique et l'Amérique Latine, avec comme tête de pont le Brésil.

Le classement des dix premiers ports mondiaux est instructif à cet égard, car huit d'entre eux sont chinois, Singapour est troisième et le seul non asiatique est Rotterdam, à la huitième place. Si nous regardons les dix suivants, la suprématie asiatique est toujours incontestable, avec seulement Port Hedland (Australie) en douzième place, Anvers (Belgique) dix-huitième, South Louisiana (États-Unis) dix-neuvième. D'autant que l'apparition de Port Hedland n'est pas sans rapport avec l'économie chinoise, car c'est le lieu d'approvisionnement de minéraux de fer, indispensables pour le développement industriel et surtout urbain de la Chine.

C'est ainsi que nous avons assisté à la transformation de toute la façade maritime asiatique chinoise : de simples ports sont devenus d'abord des villes-ports et maintenant de « mégalopoles portuaires » [...].

Extrait d'un article de Carlos Moreno, intitulé « Villes-ports et territoires : le défi de la prochaine décennie » paru dans le journal La Tribune, le 24/09/2017.

Questions :

1. A partir du document 1, identifiez la façade maritime majeure de chaque aire de puissance.
2. En utilisant les deux documents, montrez que des façades maritimes secondaires sont en développement.
3. A l'aide du document 2, citez les aménagements portuaires nécessaires à la gestion des flux maritimes mondiaux.
4. A l'aide des deux documents justifiez l'affirmation soulignée dans le texte : « À partir des années 2000, l'Asie est devenue le continent porteur de la majorité des flux maritimes sur la planète ».