

DIPLOME NATIONAL DU BREVET
SESSION NORMALE 2010

HISTOIRE-GÉOGRAPHIE

et

ÉDUCATION CIVIQUE

Série professionnelle

- Le candidat traitera obligatoirement les trois parties de l'épreuve, sachant que pour la première partie, il choisira un sujet parmi les deux proposés.
- Ce dossier comporte 8 feuilles – imprimées au recto – agrafées (pages 1 sur 8 à 8 sur 8).
La page 8 sur 8 (troisième partie : repères chronologiques et spatiaux) est à **remettre avec la copie.**
- 4 points sont attribués à l'orthographe et l'expression écrite.
- L'utilisation des calculatrices électroniques n'est pas autorisée.

Nouvelle-Calédonie	Diplôme National du Brevet Série professionnelle	Session normale 2010
Epreuve : histoire-géographie et éducation civique	Durée : 2 heures	Coefficient : 2

PREMIÈRE PARTIE. Histoire ou géographie (18 points)

Le candidat traitera un des deux sujets au choix.

Sujet 1. HISTOIRE

« *Qu'appelle-t-on les « Trente Glorieuses* » ? »

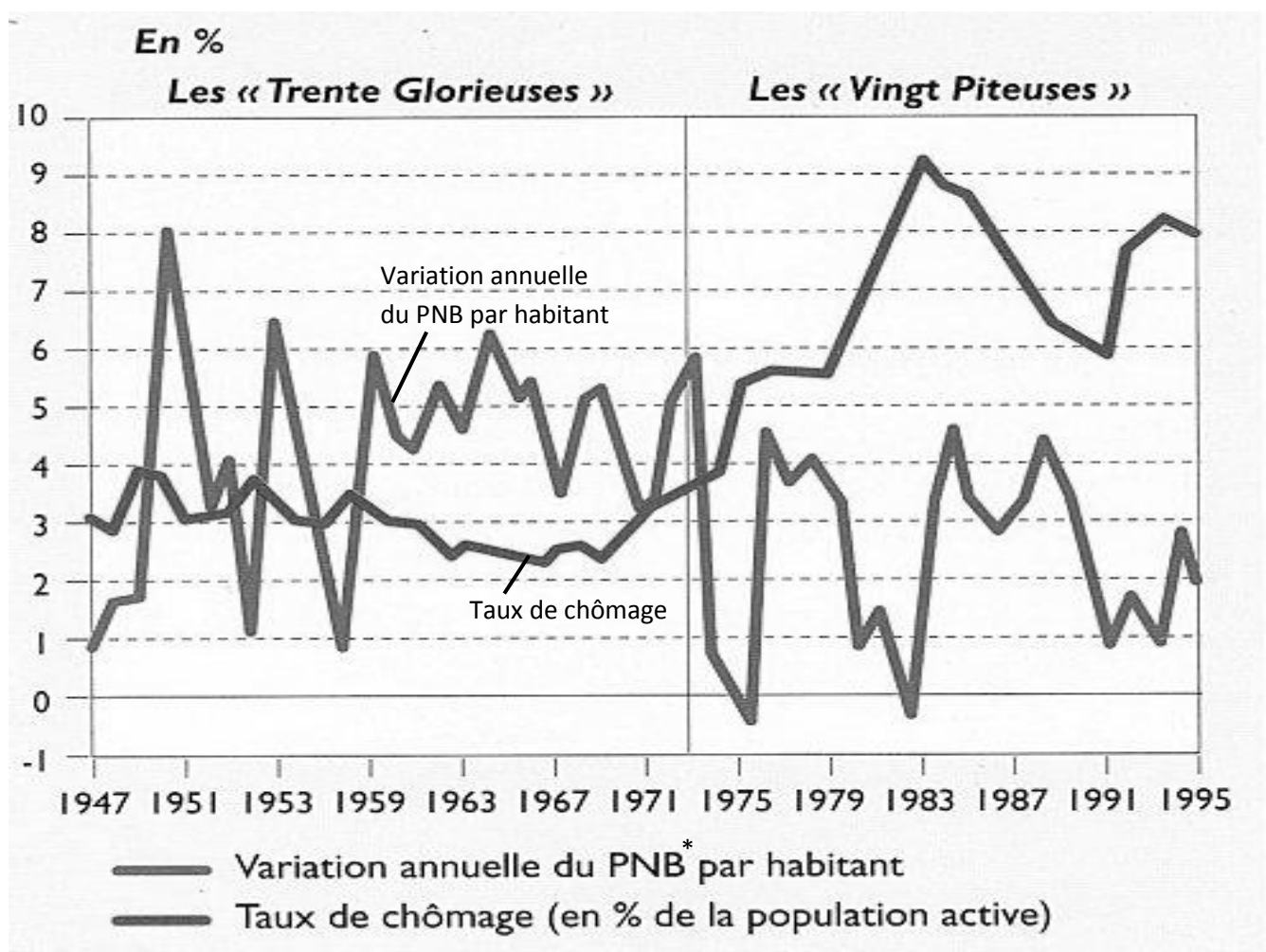
Document 1. Les Trente Glorieuses

De 1945 à 1973, l'économie mondiale a connu une période de croissance sans précédent historique, dans laquelle les pays industrialisés ont pris une part essentielle. (...)

Ainsi, durant trois décennies, les sociétés développées se sont habituées à disposer chaque année d'une quantité de biens et de services supérieures à celle de l'année précédente. Elles sont entrées dans le temps de l'abondance.

D'après S. Berstein, P. Milza, *Histoire du XXe siècle*

Document 2. La croissance économique et le chômage dans les pays industrialisés



* PNB : produit national brut

Document 3. Une affiche publicitaire de la marque Frigeavia (1957)



FRIGEAVIA
LA TECHNIQUE AVIATION
AU SERVICE DU FROID

RÉFRIGÉRATEUR
à compresseur hermétique

PORTE CONDITIONNÉE
FREEZER à 1 ou 2 étages
CLAYETTES MOBILES

DJINN 95
CONTENANCE 95 LITRES

TRIDENT 140
CONTENANCE 140 LITRES

BRETAGNE 220
CONTENANCE 220 LITRES

SALON DES ARTS MÉNAGERS - STAND B 12 - GRANDE NEF

confiance à
FRIGEAVIA
confiance à
TÉLÉAVIA

TÉLÉVISEUR GRAND ÉCRAN 43 ou 54 cm
TRÈS GRANDE FINESSE D'IMAGE
TRÈS HAUTE FIDÉLITÉ SONORE
ÉBÉNISTERIE DE LIGNES TRÈS NOUVELLES
VISIÈRE AVANT PROTÉGÉANT L'ÉCRAN
chêne bicolore ou noyer foncé
LUXUEUX tableau de bord protégé par aluminite

Source : manuel Belin

QUESTIONS (8 points)

1 / documents 1 et 2

Relevez la phrase qui définit les « Trente Glorieuses » et indiquez quels sont les types de pays concernés.

2 / document 2

Comment évoluent le PNB par habitant et le taux de chômage avant 1973 ?

3 / document 3

Quels biens de consommation ou d'équipement sont recherchés ?

PARAGRAPHE ARGUMENTÉ (10 points)

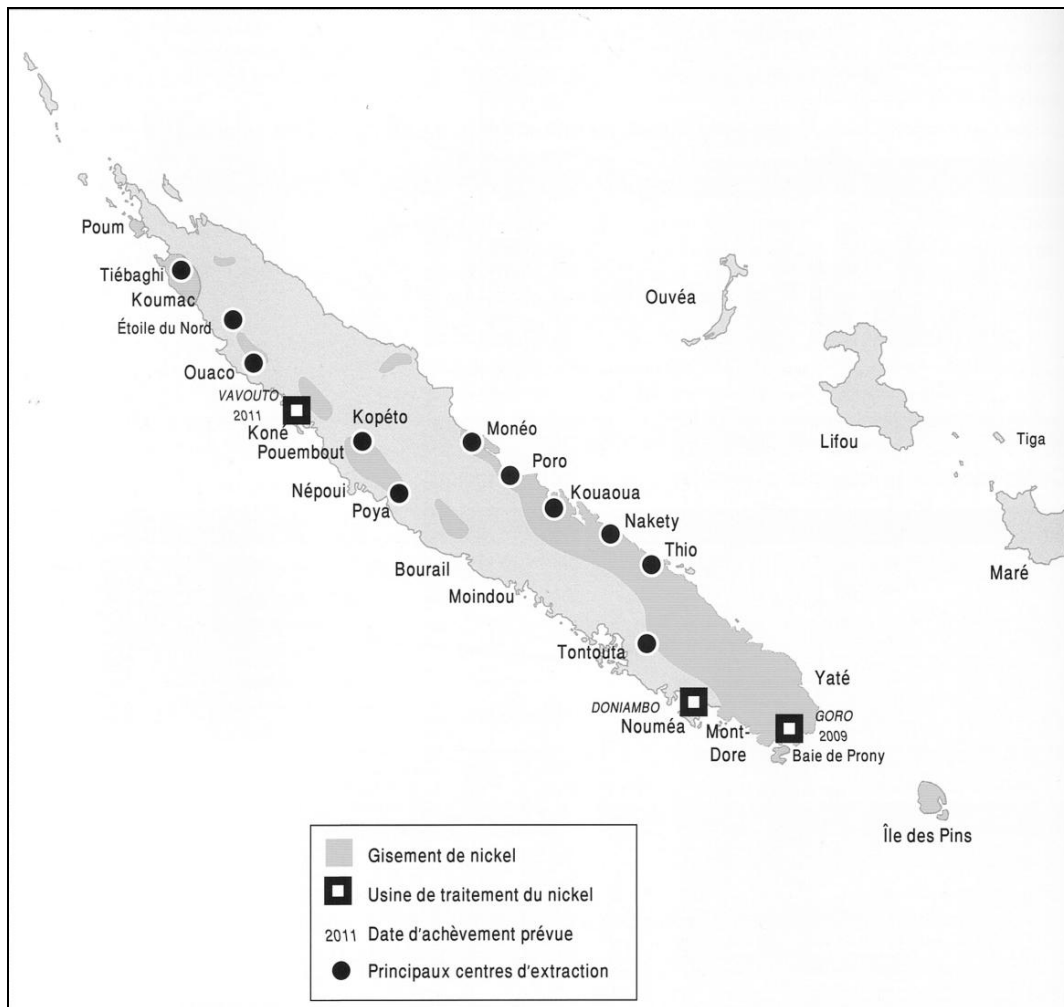
À l'aide des documents et de vos connaissances personnelles, rédigez un paragraphe d'une vingtaine de lignes dans lequel vous répondez à la question :

« Qu'appelle-t-on les « Trente Glorieuses » ? »

SUJET 2. GÉOGRAPHIE

« *Quelles sont les caractéristiques du marché du nickel en Nouvelle-Calédonie ?* »

Document 1. La Nouvelle-Calédonie, un « caillou » de nickel



Source : manuel 1ère et T (L, ES et S) Histoire et Géographie, La Nouvelle-Calédonie et l'Océanie, ouvrage collectif, scéren, CDP NC, 2010

Document 2. L'usine de Vale Nouvelle-Calédonie à Goro

Source : site Internet Vale Nouvelle-Calédonie

Document 3. Les clients du nickel néo-calédonien

Principal client pour le minerai néo-calédonien en 2009, la Corée du Sud a acheté 42 % du minerai exporté. Ses achats montent en puissance sur l'année pour les besoins de production de l'usine de Gwangyang (SMSP-POSCO), atteignant 1,5 million de tonnes en 2009, soit trois fois plus qu'en 2008. La reprise de l'activité de l'usine hydrométallurgique de Yabulu, en Australie, s'est traduite par une progression des volumes de nickel néo-calédonien exportés vers l'Australie sur le 2^{ème} semestre de l'année. 41 % du minerai néo-calédonien a été exporté en 2009 en direction de l'Australie (soit 1,4 million de tonnes).

Avec 610 milliers de tonnes exportées en 2009, contre 780 000 en 2008, les exportations en direction du Japon reculent de 21,8 % sur un an et ne représentent plus que 17 % des volumes exportés contre 25 % en 2008.

La Chine, qui avait absorbé 9,2 % des ventes de nickel néo-calédonien en 2008 et 33,1% en 2007, n'a effectué aucun achat en 2009.

Source : d'après le site Internet de l'institut de la statistique et des études économiques (www.isee.nc)

QUESTIONS (8 points)**1 / documents 1 et 3**

Citez 2 éléments qui montrent que la Nouvelle-Calédonie est un grand producteur de nickel.

2 / documents 1 et 2

Relevez le nom des trois sites d'installation d'usine de traitement du nickel en Nouvelle-Calédonie.

3 / document 3

Qui sont les principaux pays acheteurs du nickel néo-calédonien en 2009 ? Que font la Corée du Sud et l'Australie avec le minerai de nickel ?

PARAGRAPHE ARGUMENTÉ (10 points)

À l'aide des documents et de vos connaissances personnelles, rédigez un paragraphe d'une vingtaine de lignes dans lequel vous répondez à la question :

« *Quelles sont les caractéristiques du marché du nickel en Nouvelle-Calédonie ?* »

DEUXIÈME PARTIE. Éducation civique (12 points)


SUJET. « *Sur quels principes et quelles valeurs repose la démocratie en France ?* »

Document 1. Bureau de vote



Source : cahier d'éducation civique, Nathan, 2007

Document 2. Les menaces contre la démocratie



Dessin de Spinga

Source : cahier d'éducation civique, Hachette éducation, 2007

Document 3. Extrait de la Constitution française de 1958

Préambule : « Le peuple français proclame solennellement son attachement aux droits de l'Homme et au principe de souveraineté nationale. »

Art. 2 : « [...] Son principe est : gouvernement du peuple, par le peuple et pour le peuple. »

Art.3 : « La souveraineté nationale appartient au peuple qui l'exerce par ses représentants et par la voie du référendum. [...]. Le suffrage peut-être direct ou indirect [...]. Il est toujours universel, égal et secret. »

Source : manuel d'éducation civique, Hachette, 2007

QUESTIONS (4 points)

1/ documents 1 et 3

Comment le peuple exerce t-il sa souveraineté au sein de la République française ?

2/ document 3

Relever l'article qui définit la démocratie.

3/ documents 1, 2 et 3

Sur quels droits universels repose la démocratie française ? Quelles sont les menaces qui la guettent ?

PARAGRAPHE ARGUMENTÉ (8 points)

À l'aide des informations tirées de vos documents et de vos connaissances, rédigez un paragraphe d'une quinzaine de lignes répondant à la question suivante :




« Sur quels principes et quelles valeurs repose la démocratie en France ? »

TROISIÈME PARTIE. Repères chronologiques et spatiaux (6 points)

Attention : cette feuille est à rendre obligatoirement avec votre copie

Repères chronologiques (3 points)

1/ Identifiez chaque président de la République française en indiquant, sous l'image, son nom et ses années de mandat.

Président de la V ^e République			
Nom
Dates de ses mandats présidentiels

Repères spatiaux (3 points)

La coupe du monde de football remise au vainqueur en Afrique du Sud en 2010 a parcouru plusieurs continents et plusieurs pays avant son arrivée en Afrique.

2/ Identifiez les continents par lesquels elle est passée en complétant le tableau suivant :

A
B
C

2/ Identifiez les pays par lesquels elle est passée en complétant le tableau suivant :

1
2
3

