

Étude de cas : Auckland une métropole d'Océanie
Partie 3 : Habiter la ville.

Cette partie du programme nous demande d'aborder avec les élèves les spécificités du paysage urbain. Qu'est-ce qu'une ville ? Quels sont les différents territoires (espaces de vie, d'activités, de loisirs) de la ville (sous entendu pourquoi sont-ils ici et pas ailleurs) ? Quels sont les différents types de paysages urbains ? Comment s'organise l'espace urbain ?

Pour répondre à ces questions nous disposons de 15 % du temps (5 à 7 heures). Il nous est demandé d'orienter notre étude sur deux études de cas : une métropole de pays riche - le choix ici se porte sur Auckland - et une autre sur une métropole de pays pauvre.

Problématique : Quelles sont les caractéristiques d'Auckland, une métropole d'Océanie ?

Déroulement de la leçon (3 h) :

- Localisation de la Nouvelle-Zélande et d'Auckland (travail à l'oral avec les élèves)
- Étude des paysages de la métropole et leur fonction (travail en autonomie)
- Mise en parallèle et approfondissement avec une autre grande métropole New York (travail oral et écrit)

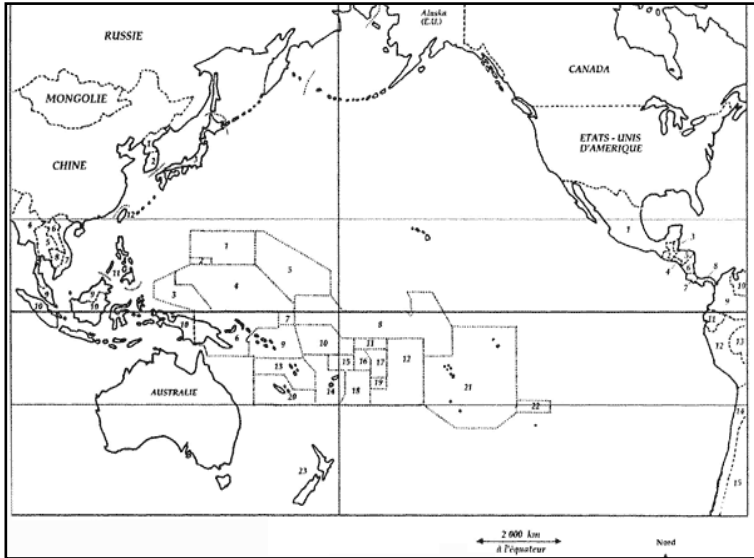
Objectifs :

- Localiser en utilisant plusieurs échelles (mondiale, régionale, locale)
- Décrire et reconnaître les différents territoires et paysages urbains
- Expliquer grâce aux informations contenues dans les documents et les croiser
- Réaliser un schéma simple d'une métropole

Notions :

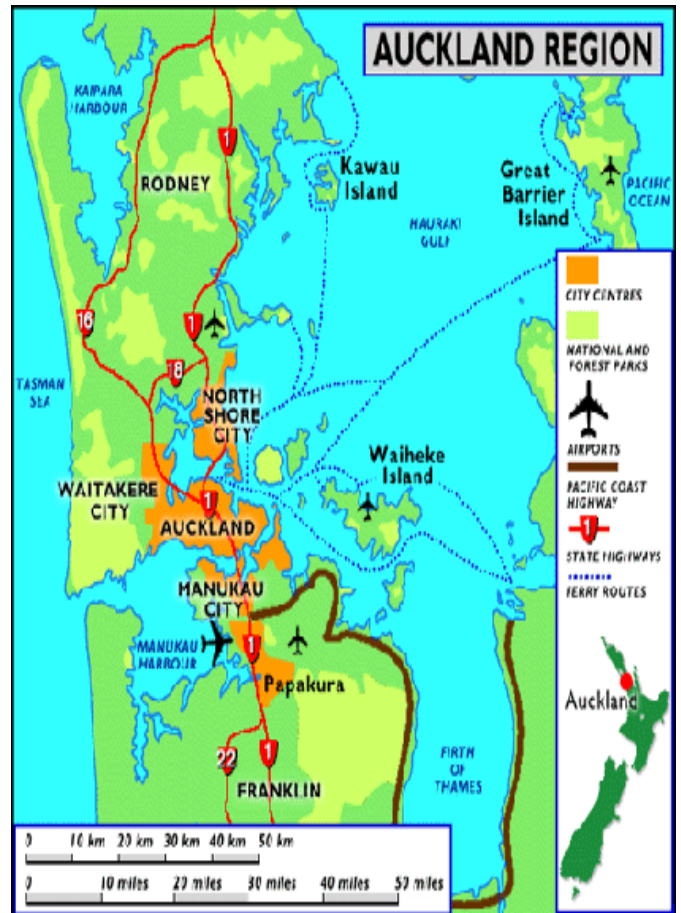
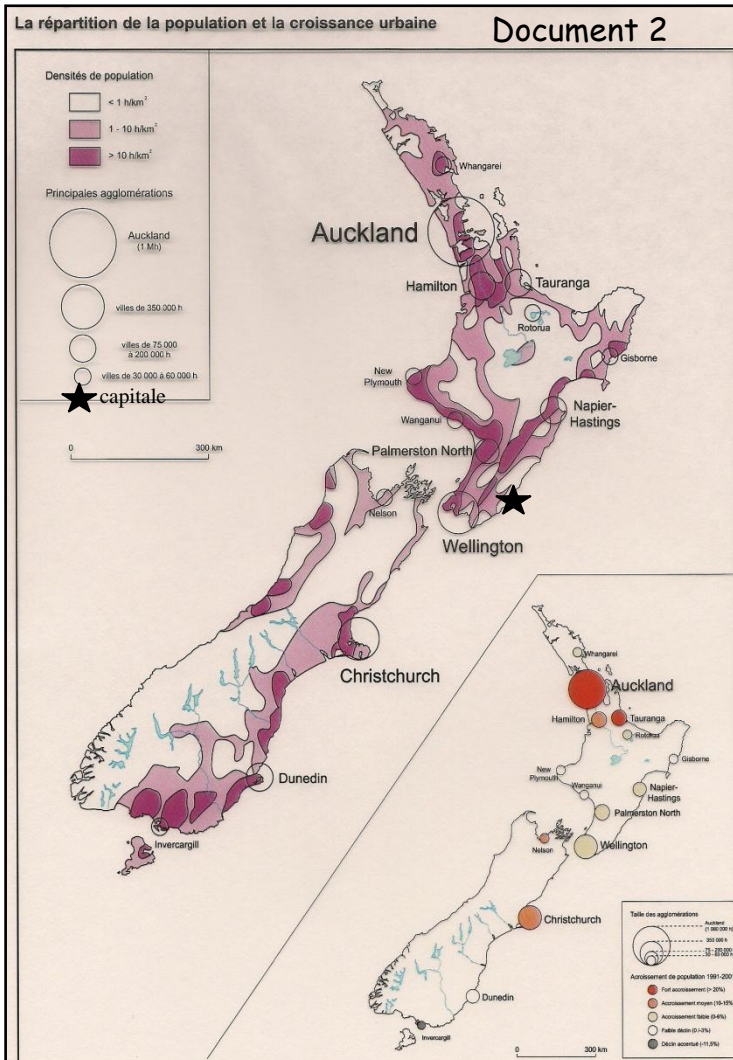
- Métropole, CBD ou quartier des affaires, banlieue, zone industrielle et commerciale, ghetto, zone résidentielle, gratte-ciel

Première partie : la localisation de la ville d'Auckland



Document 1

Document 3



Questions

Document 1

1. Localisez la Nouvelle-Calédonie en la coloriant en rouge.
2. Localisez la Nouvelle-Zélande en la coloriant en bleu.
3. Dans quel hémisphère se trouvent ces deux pays et dans quelle région?

Documents 1, 2 et 3

4. Quelle est la capitale de la Nouvelle-Zélande ? Quelle en est la plus grande ville ?
5. D'après le document 2, où se situe Auckland par rapport à la Nouvelle-Zélande ?
6. D'après le document 3, décrivez le site d'Auckland

Deuxième partie : le dynamisme de la métropole et ses limites

Document 4. Auckland une métropole dynamique du Pacifique Sud

Auckland est une métropole de près de 1.25 millions d'habitants (soit 1/3 de la population néo-zélandaise). Il s'agit d'une population multiculturelle (55 % d'Européens, 14 % de Polynésiens, 11 % de Maoris et 19 % d'Asiatiques)

Auckland est la capitale économique du pays car elle concentre 35% de l'activité du pays. Le CBD¹ de Queen Street est le cœur de cette activité ; il accueille la majeure partie des multinationales². Quant aux zones industrielles et commerciales elles se sont développées au sud-est ainsi que dans la région de Manukau.

Sources : Auckland City Council et gouvernement of New-Zealand.

1. Central business district ou centre des affaires
2. Grandes entreprises présentes partout dans le monde. (ex. Coca-cola)

Document 5. Les problèmes sociaux à Auckland

Auckland s'étend en banlieues sans fin qui couvrent plus de 1000 km² selon un zonage social qui oppose le nord de la ville (Northshore), plutôt aisé, et les banlieues difficiles du sud situées près de l'aéroport, à Mangare, ou sur le long de la Southern Motorway, à Otahuhu, Papatoetoe ou Papakura.

Michel Lextreyt, La Nouvelle-Zélande à la croisée des chemins, SCEREN, CDPNC, mars 2005

Document 6. Auckland une métropole soucieuse de son environnement.

Le conseil régional d'Auckland a lancé en 2002 une campagne intitulée le Grand nettoyage afin d'inciter les ménages à adopter un style de vie plus compatible avec le développement durable. Cette campagne a pour objectif d'informer les citoyens sur la manière dont ils peuvent réduire leur impact sur l'environnement. Des études ont montré que 90 % des personnes interrogées étaient favorables à cette campagne. Le conseil régional d'Auckland espère élargir cette action auprès des partenaires économiques de la région, déjà sensibilisés à la préservation de l'environnement.

Source : www.arc.govt.nz

Questions : comment s'exprime le dynamisme d'Auckland et quelles sont ses limites ?

Document 4

1. Combien y-a-t-il d'habitants à Auckland ? Pourquoi dit-on qu'il s'agit d'une métropole multiculturelle ?
2. Pourquoi la ville est-elle considérée comme la capitale économique du pays ? Quelles activités économiques trouve-t-on au centre ville ? Où sont situées les zones industrielles et commerciales ?

Document 5

3. Où sont situées les banlieues les plus pauvres d'Auckland ? Pourquoi ?

Document 6


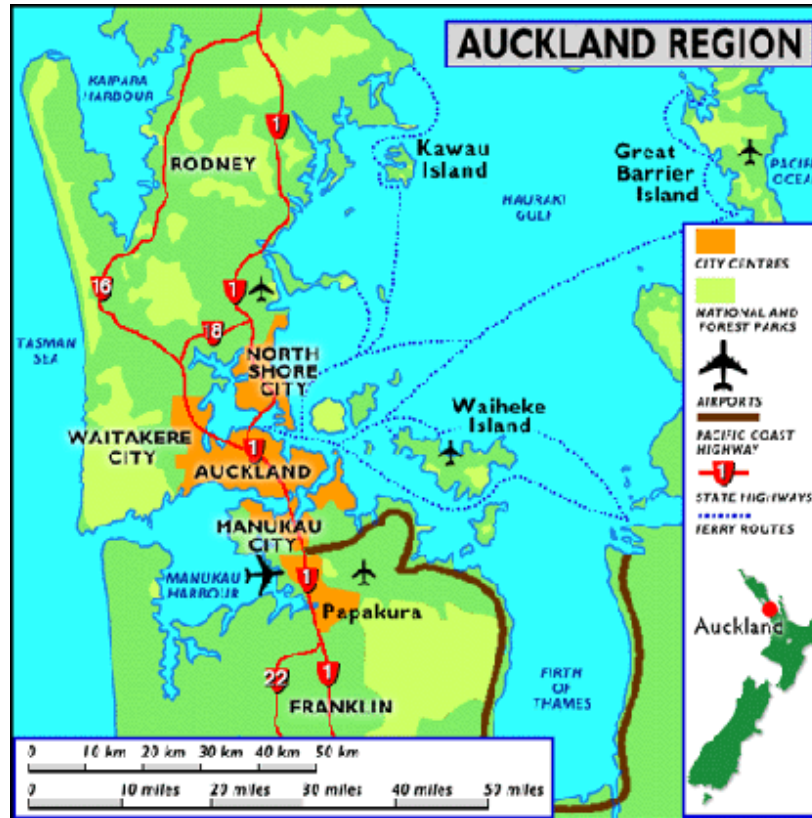
4. Soulignez la phrase qui montre que les autorités d'Auckland se préoccupent de l'environnement.

Troisième partie : la métropole et ses banlieues

Document 8. Vue sur le centre des affaires



Document 7. La région d'Auckland



Document 10. Newlyn une zone industrielle et commerciale à l'est d'Auckland (vers Waitakere)



Document 9. Une banlieue au sud d'Auckland. (Papakura)

Questions : comment s'organise l'espace de la métropole ?

Documents 8, 9 et 10

1. Complétez le tableau ci-dessous en décrivant les trois paysages urbains d'Auckland.

	Document 8	Document 9	Document 10
Types de bâtiments			
Types d'activités			
Voies de communications			

Documents 7, 8, 9 et 10

2. À l'aide d'une flèche reliez chacune des photos au bon endroit sur la carte du document 7.

Audrey GUETTE, professeure d'histoire-géographie
Collège Louise Michel, Païta Sud