

Examen ou Concours : **Diplôme National du Brevet**

Série : **Générale**

Epreuves/sous-épreuve : **Histoire-Géographie et Enseignement moral et civique**

NOM :

(en majuscules, suivi s'il y a lieu, du nom d'épouse)

Prénoms : \_\_\_\_\_ N° du candidat :

Né(e) le : \_\_\_\_\_

(le numéro est celui qui figure sur la convocation ou la liste d'appel)

NE RIEN ECRIRE

Examen ou Concours : **Diplôme National du Brevet**

série\* : **Générale**

Epreuves/sous-épreuve : **Histoire-Géographie et Enseignement moral et civique**

(Préciser, s'il y a lieu, le sujet choisi)

Note

40

Apréciation du correcteur (uniquement s'il s'agit d'un examen) :

\*Uniquement s'il s'agit d'un examen.

## SESSION 2016

Le candidat répond sur le sujet qui est rendu en fin d'épreuve.

**PREMIÈRE PARTIE : HISTOIRE (13 points)**  
**DEUXIÈME PARTIE : GÉOGRAPHIE (13 points)**  
**TROISIÈME PARTIE : ENSEIGNEMENT MORAL ET CIVIQUE (10 points)**

**La maîtrise de la langue est notée sur 4 points.**

**DURÉE : 2 heures**

**COEFFICIENT : 2**

**NB DE PAGE(S) : 12**

NE RIEN ÉCRIRE

DANS LA PARTIE BARRÉE


**PREMIÈRE PARTIE : HISTOIRE (13 points)**

I- QUESTIONS (7 points)

1. En quelle année James Cook arrive-t-il en Nouvelle-Calédonie ? (0,5 point)

.....

2. À la veille de la Seconde Guerre mondiale, en 1939 : (2 points)



Comment se nomme ce dirigeant ?	.....	.....
Quel État dirige-t-il ?	.....	.....

3. Citez la bataille à laquelle les volontaires du Bataillon du Pacifique ont participé en 1942. (0,5 point)

.....  
.....  
.....

NE RIEN ÉCRIRE

DANS LA PARTIE BARRÉE

4. En rédigeant un développement construit, citez les principales mesures prises par le Front populaire en montrant les réactions qu'elles suscitent. (4 points)

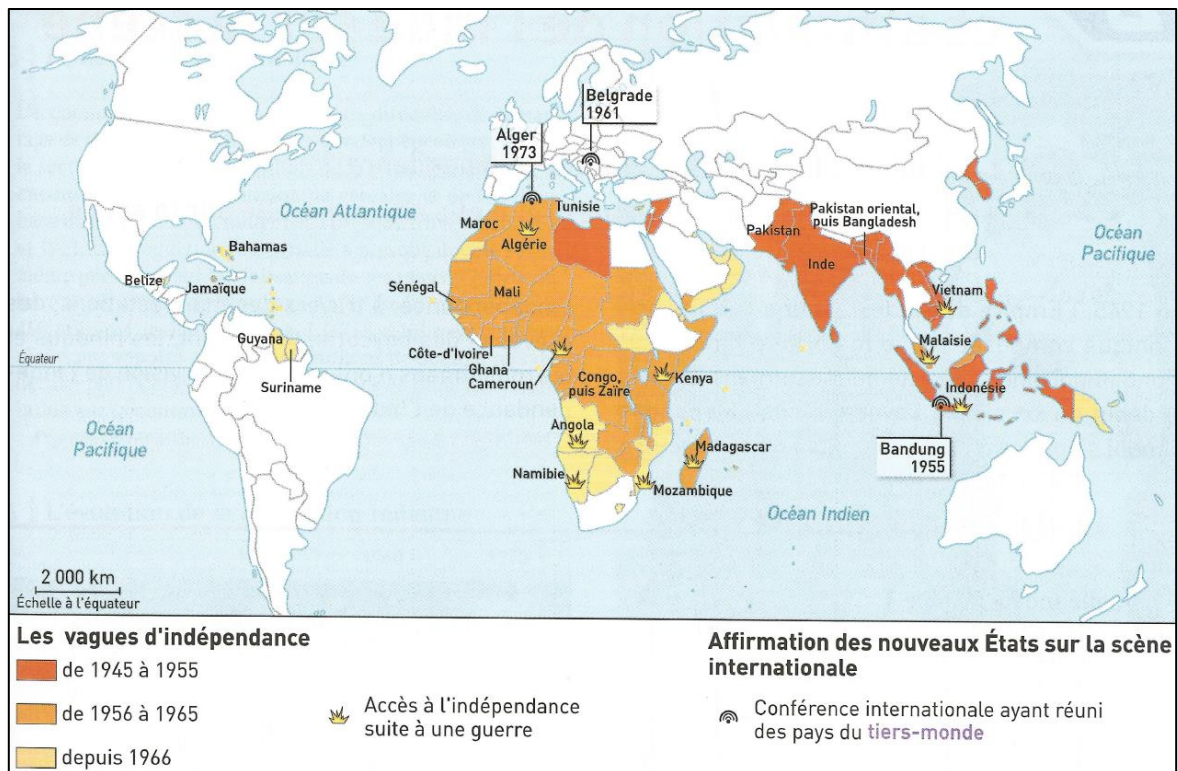
A large rectangular area with horizontal dotted lines for writing.

NE RIEN ÉCRIRE

DANS LA PARTIE BARRÉE

## II- TRAVAIL SUR DOCUMENT (6 points)

### La décolonisation et l'affirmation des pays indépendants au niveau international



Source : manuel de 3<sup>ème</sup>, Hachette éducation, 2012

1. En vous aidant de la carte et de sa légende, complétez le tableau ci-dessous :

	Afrique	Asie
<b>Principale période de décolonisation</b>		
<b>Citez deux pays ayant obtenu leur indépendance à la suite d'une guerre</b>	- -	- -

NE RIEN ÉCRIRE

DANS LA PARTIE BARRÉE

2. Entourez sur la carte, le lieu de la première conférence internationale qui a réuni les pays du tiers-monde.
3. Entourez parmi les mots ci-dessous les quatre principales revendications des pays participant à cette conférence :

*Non-alignement*

*Totalitarisme*

*Communisme*

*Tiers-monde*

*Capitalisme*

*Colonisation*

*Indépendance*

*Impérialisme*

*Décolonisation*

NE RIEN ÉCRIRE

DANS LA PARTIE BARRÉE

## DEUXIÈME PARTIE : GÉOGRAPHIE (13 points)

### I- QUESTIONS (7 points)

1. Complétez le tableau sur la page suivante en vous aidant de la carte et des repères géographiques soulignés dans le texte proposé. (4 points)

L'essentiel de la population française se concentre dans les zones urbaines, notamment à Paris, Lyon, Marseille, Toulouse sur les littoraux de la mer Méditerranée, de l'océan Atlantique et dans les grandes vallées fluviales comme celles de la Seine ou du Rhône. À l'inverse, la région qui relie les Ardennes aux Pyrénées est très peu peuplée.

Source : d'après un manuel de 3<sup>ème</sup>



NE RIEN ÉCRIRE

DANS LA PARTIE BARRÉE

Villes	1 .....	2 .....	3 .....	4 .....
Fleuves	A .....		B .....	
Mer et océan	I. .....		II. .....	

2. Donnez le nom de la partie du territoire français très peu peuplée qui relie les Ardennes aux Pyrénées. (1 point)

.....

3. Expliquez ce qu'est l'étalement urbain. (1 point)

.....  
.....  
.....  
.....

4. Quels sont les atouts du territoire néo-calédonien ? (1 point)

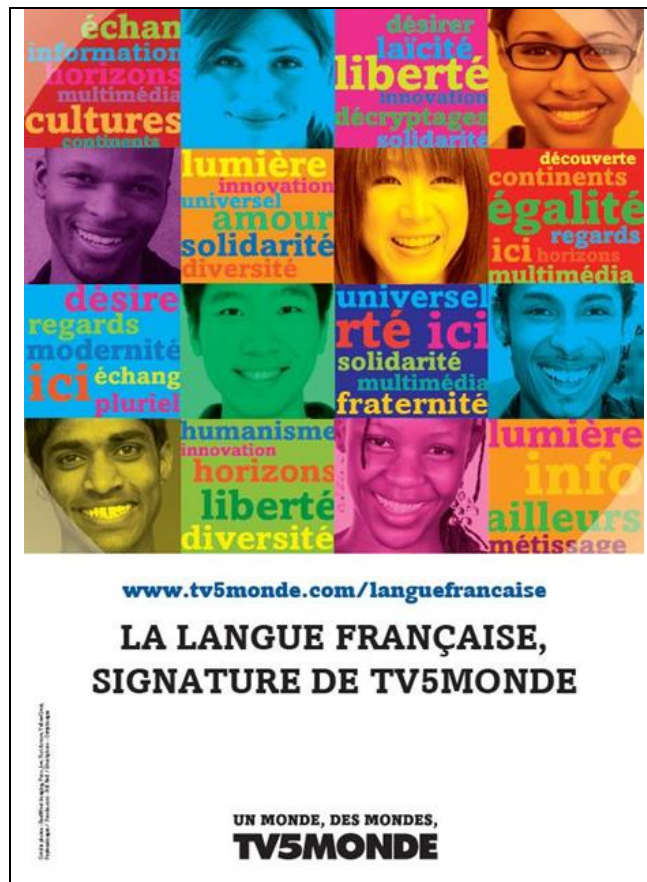
.....  
.....  
.....  
.....

NE RIEN ÉCRIRE

DANS LA PARTIE BARRÉE

II – TRAVAIL SUR DOCUMENT (6 points)

**Affiche de promotion pour la chaîne de télévision TV5 Monde**



Source : Site tv5monde.com

1. Quelle est la nature de ce document ? Quel en est le thème ?

.....

.....

.....



NE RIEN ÉCRIRE

DANS LA PARTIE BARRÉE

2. En quelle langue sont diffusées les émissions de la chaîne de télévision TV5 Monde ?

.....

.....

3. Quelles valeurs de la France, cette chaîne souhaite-t-elle faire passer ?

.....

.....

.....

4. Quels termes et quels éléments du document montrent la diversité et le rayonnement de la France dans le monde ?

.....

.....

.....

.....

NE RIEN ÉCRIRE

DANS LA PARTIE BARRÉE

**TROISIÈME PARTIE : ENSEIGNEMENT MORAL ET CIVIQUE (10 points)**

**I - QUESTIONS (5 points)**

1. Quelles institutions détiennent le pouvoir exécutif en France ? En Nouvelle-Calédonie ? (1 point)

.....

.....

.....

.....

2. Entourez, parmi les élections ci-dessous, celles auxquelles participent les citoyens de la Nouvelle-Calédonie. (2 points)

<b>présidentielles</b>	<b>européennes</b>	
<b>législatives</b>	<b>cantonales</b>	<b>provinciales</b>
<b>municipales</b>	<b>régionales</b>	

3. Comment appelle-t-on les soldats de l'ONU et quel est leur rôle ? (2 points)

.....

.....

.....

.....

NE RIEN ÉCRIRE

DANS LA PARTIE BARRÉE

II – TRAVAIL SUR DOCUMENT (5 points)

Carte électorale des citoyens européens résidant en France



Source : manuel de 3<sup>ème</sup>, Nathan, 2013

1. Quelle est la nature de ce document ?

.....

.....

NE RIEN ÉCRIRE

DANS LA PARTIE BARRÉE

2. Quelles personnes peuvent voter avec ce document ?

.....

.....

.....

.....

3. À quelles élections peuvent participer les électeurs munis de ce document, en France ?

.....

.....

.....

.....