

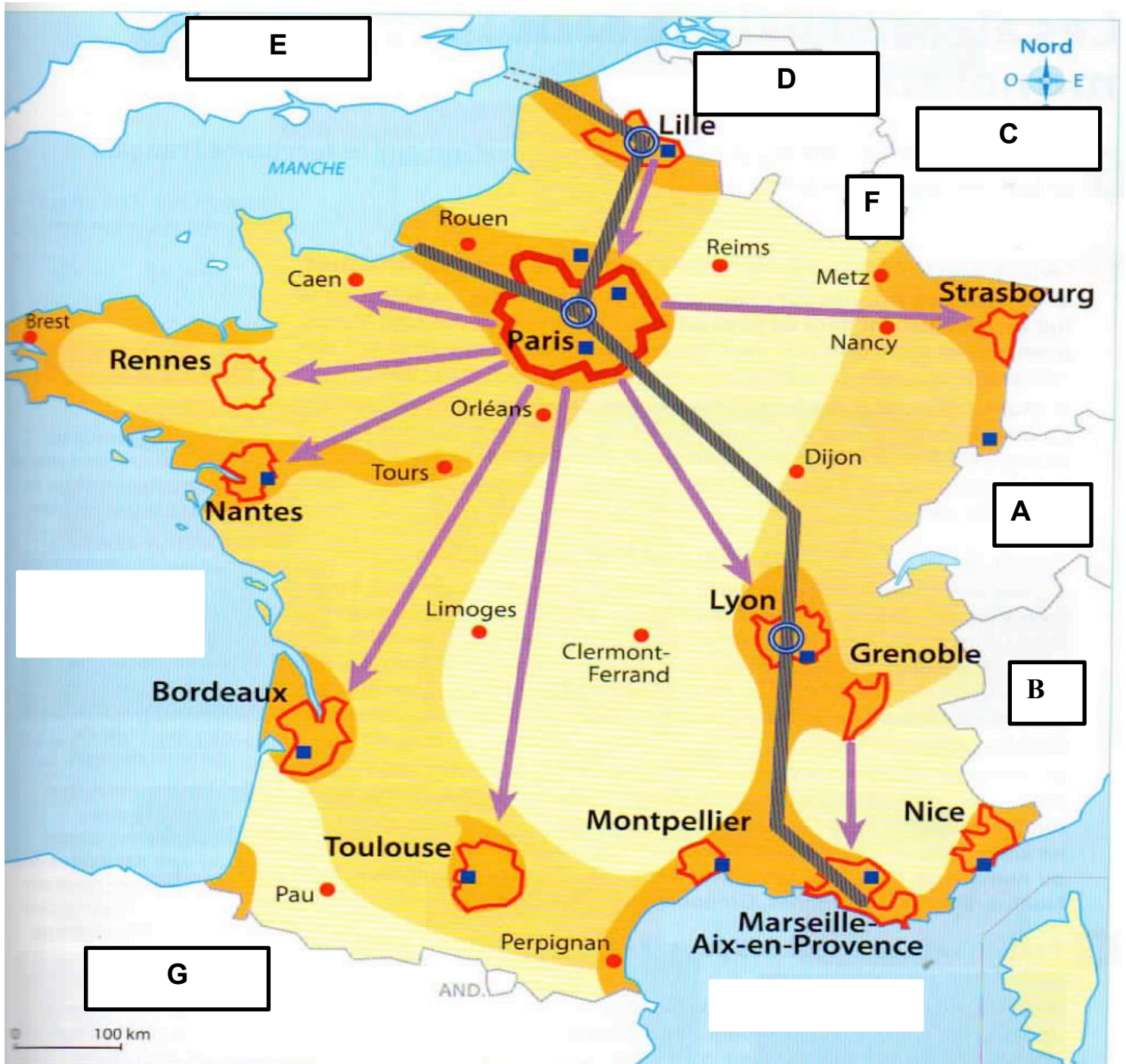
3e...

Nom :
Prénom :
Date : 2018

Observations :

/20

Carte notée 1 : Les aires urbaines, une nouvelle géographie d'une France mondialisée






1.....
.....

2.....
.....

3.....
.....



-  Grands flux migratoires internes
-  Aire urbaine
-  Autre agglomération importante

-  Axe de transports majeur (TGV, autoroutes)
-  Aéroports internationaux
-  Carrefour majeur

Sources : www.senat.fr, www.insee.fr

1) Complète les éléments manquants de la légende à partir des propositions suivantes :/7

Aire urbaine de Paris ville-monde – Densités faibles – Des aires urbaines reliées entre elles par des réseaux de transports – Une population inégalement répartie – Densités moyennes – densités fortes – Une population qui se concentre dans les aires urbaines

2) Complète les figurés manquants de la légende/3

3) Nomme les pays frontaliers/7

A D..... G.....
B..... E.....
C..... F.....

4) Place et nomme l’Océan et la mer manquants..../2

5) 1 point pour la présentation

Bilan de compétences du domaine 1: Je réalise un croquis ou une carte

(bilan qui est complété par le professeur)

	Très bonne maîtrise	Maîtrise satisfaisante	Maîtrise fragile	Maitrise insuffisante
J’ai complété la légende				